



Date : 27-10-2024, Sunday
Total Number of Questions: 100
Maximum Marks : 100
Total Duration : 150 Minutes
Maximum Time for Answering : 120 Minutes
Time : 10.30 am to 12.30 pm

MENTION YOUR REGISTER NUMBER

--	--	--	--	--	--	--	--	--	--	--	--	--	--	--	--	--	--	--	--

Serial Number :

KEA ~~27/10/2024~~ - Attend
27/10/2024
Village Accountant

Subject Code

VAO2710P124

DOs:

Subject: Paper-1

1. This question booklet is issued to you by the invigilator after the 2nd bell i.e., after 10.25 am.
2. Check whether the Register Number has been entered and shaded the respective circles on the OMR answer sheet.
3. The Version Code and Serial Number of this question booklet should be entered on the OMR answer sheet and the respective circles should also be shaded completely.
4. The Version Code and Serial Number of this question booklet should be entered on the Nominal Roll without any mistakes.
5. Compulsorily sign at the bottom portion of the OMR answer sheet in the space provided.

DONTs:

1. **THE TIMING AND MARKS PRINTED ON THE OMR ANSWER SHEET SHOULD NOT BE DAMAGED / MUTILATED / SPOILED.**
2. **The 3rd Bell rings at 10.30 am, till then**
 - Do not remove the seal present on the right hand side of this question booklet.
 - Do not look inside this question booklet or start answering on the OMR answer sheet.

IMPORTANT INSTRUCTIONS TO CANDIDATES

1. In case of usage of signs and symbols in the questions, the regular textbook connotation should be considered unless stated otherwise.
2. This question booklet contains 100 questions and each question will have one statement and four different options/responses & out of which you have to choose one correct answer.
3. After the 3rd Bell rings at 10.30 am, remove the paper seal on the right hand side of this question booklet and check that this booklet does not have any unprinted or torn or missing pages or items etc., if so, get it replaced by a complete test booklet. Read each item and start answering on the OMR answer sheet.
4. Completely **darken / shade** the relevant circle with a **blue or black ink ballpoint pen against the question number on the OMR answer sheet.**

ಸರಿಯಾದ ಕ್ರಮ CORRECT METHOD	ತಪ್ಪು ಕ್ರಮಗಳು WRONG METHODS											
① ● ③ ④	⊗	②	③	④	①	②	③	④	①	●	●	④
① ● ③ ④	●	②	③	④	①	●	③	④	①	②	③	④

5. Please note that even a minute unintended ink dot on the OMR answer sheet will also be recognized and recorded by the scanner. Therefore, avoid multiple markings of any kind on the OMR answer sheet.
6. Use the space provided on each page of the question booklet for Rough Work. Do not use the OMR answer sheet for the same.
7. **Once the last bell is rung at 12.30 pm, stop marking on the OMR answer sheet. Hand over the OMR answer sheet to the room invigilator as it is.**
8. After separating the top sheet (Office copy), the invigilator will return the bottom sheet replica (candidate's copy) to you to carry home for self-evaluation.
9. There is a negative valuation, for each wrong answer ¼ of marks will be deducted.

NOTE: In case of doubt/clarification about any question, candidates may refer Kannada/English version.

K.V

1. ಕೆಳಗಿನ ಹೇಳಿಕೆಗಳಲ್ಲಿ ಯಾವುದು ಸರಿಯಲ್ಲ?
 - (1) ಸಾರ್ವಜನಿಕ ಲೆಕ್ಕಪತ್ರ ಸಮಿತಿಯು ರಾಜ್ಯಸಭೆಯ ಸದಸ್ಯರನ್ನು ಮಾತ್ರ ಒಳಗೊಂಡಿರುತ್ತದೆ
 - (2) ಸಾರ್ವಜನಿಕ ಲೆಕ್ಕಪತ್ರ ಸಮಿತಿಯು ಅತ್ಯಂತ ಹಳೆಯ ಹಣಕಾಸು ಸಮಿತಿ
 - (3) ಸಾರ್ವಜನಿಕ ಲೆಕ್ಕಪತ್ರ ಸಮಿತಿಯ ಸದಸ್ಯರ ಅಧಿಕಾರಾವಧಿ ಒಂದು ವರ್ಷ
 - (4) ಮಂತ್ರಿಗಳೊಬ್ಬರು ಸಾರ್ವಜನಿಕ ಲೆಕ್ಕಪತ್ರ ಸಮಿತಿಯ ಸದಸ್ಯರಾಗಲು ಅರ್ಹರಲ್ಲ
2. ಈ ಕೆಳಗಿನ ಯಾವ ರಾಸಾಯನಿಕವನ್ನು ಗಾಜಿನ ಶೀಶೆಯಲ್ಲಿ ಶೇಖರಣೆ ಮಾಡಬಾರದು?
 - (1) ಹೈಡ್ರೋಕ್ಲೋರಿಕ್ ಆಮ್ಲ
 - (2) ಸಲ್ಫೂರಿಕ್ ಆಮ್ಲ
 - (3) ಹೈಡ್ರೋಫ್ಲೋರಿಕ್ ಆಮ್ಲ
 - (4) ಟಾರ್ಟರಿಕ್ ಆಮ್ಲ
3. ಈ ಕೆಳಗಿನ ರಸಗೊಬ್ಬರಗಳನ್ನು ಪರಿಗಣಿಸಿರಿ.
 - a) ಯೂರಿಯಾ
 - b) ಅಮೋನಿಯಂ ನೈಟ್ರೇಟ್
 - c) ಟ್ರಿಪಲ್ ಸೂಪರ್ ಫಾಸ್ಫೇಟ್
 - d) ಪೊಟ್ಯಾಷಿಯಂ ಸಲ್ಫೇಟ್

ಈ ಮೇಲಿನ ಯಾವ ರಸಗೊಬ್ಬರ ಸಾರಜನಕಯುಕ್ತ ರಸಗೊಬ್ಬರವಾಗಿದೆ?

 - (1) a ಮತ್ತು c ಮಾತ್ರ
 - (2) a ಮತ್ತು b ಮಾತ್ರ
 - (3) a, b ಮತ್ತು c ಮಾತ್ರ
 - (4) b, c ಮತ್ತು d ಮಾತ್ರ
4. ಈ ಕೆಳಕಂಡ ಹೇಳಿಕೆಗಳನ್ನು ಪರಿಗಣಿಸಿರಿ.

ಹೇಳಿಕೆ I : ಹಾರ್ಮೋನುಗಳು ಇಂಟರ್ ಸೆಲ್ಯುಲರ್ ಸಂದೇಶವಾಹಕವಾಗಿ ಕಾರ್ಯನಿರ್ವಹಿಸುತ್ತವೆ

ಹೇಳಿಕೆ II : ಹಾರ್ಮೋನುಗಳು ನಮ್ಮ ದೇಹದಲ್ಲಿ ಎಂಡೋಕ್ರೈನ್ ಗ್ಲಾಂಡ್‌ಗಳಲ್ಲಿ ಉತ್ಪತ್ತಿಯಾಗುತ್ತವೆ

ಮೇಲಿನ ಹೇಳಿಕೆಗಳ ಆಧಾರದ ಮೇಲೆ ಸರಿಯಾದ ಉತ್ತರವನ್ನು ಗುರುತಿಸಿ.

 - (1) ಎರಡು ಹೇಳಿಕೆಗಳು ಸರಿಯಾಗಿವೆ
 - (2) ಹೇಳಿಕೆ I ಸರಿಯಾಗಿದೆ ಆದರೆ ಹೇಳಿಕೆ II ಸರಿಯಾಗಿಲ್ಲ
 - (3) ಹೇಳಿಕೆ I ಸರಿಯಾಗಿಲ್ಲ ಆದರೆ ಹೇಳಿಕೆ II ಸರಿಯಾಗಿದೆ
 - (4) ಹೇಳಿಕೆ I ಮತ್ತು ಹೇಳಿಕೆ II ಸರಿಯಾಗಿಲ್ಲ

SPACE FOR ROUGH WORK

1. Which one of the following Statements is not correct?
- (1) Public Accounts Committee comprises the members of Rajya Sabha only
 - (2) Public Accounts Committee is the oldest financial committee
 - (3) The term of office of the members of Public Accounts Committee is one year
 - (4) A minister is not eligible to become the member of Public Accounts Committee

2. Which one of the following chemicals cannot be stored in a glass vessel?

- (1) Hydrochloric acid
- (2) Sulphuric acid
- (3) Hydrofluoric acid
- (4) Tartaric acid

3. Consider the following fertilizers:

- a) Urea
- b) Ammonium nitrate
- c) Triple Super phosphate
- d) Potassium sulphate

Which of the above fertilizers are nitrogenous fertilizer?

- (1) a and c only
- (2) a and b only
- (3) a, b and c only
- (4) b, c and d only

4. Consider the following statements:

Statement – I: Hormones are molecules that act as intercellular messengers

Statement – II: Hormones are produced by endocrine glands in the body

Based on the above statements, choose the correct answer.

- (1) Both Statement – I and Statement – II are correct
- (2) Statement – I is correct but Statement – II is incorrect
- (3) Statement – I is incorrect but Statement – II is correct
- (4) Both Statement – I and Statement – II are incorrect

SPACE FOR ROUGH WORK

Visit to "KarnatakaHelp.in"

5. ಈ ಕೆಳಗೆ ಕೊಟ್ಟಿರುವ ಯಾವ ಜೋಡಿಗಳಲ್ಲಿ ಗಾಜಿನ ವಿಧ ಮತ್ತು ಅದರ ಉಪಯೋಗಗಳು ಸರಿ ಹೊಂದಿರುತ್ತವೆ?
- a) ಪ್ಲಿಂಟ್ ಗ್ಲಾಸ್ : ಕ್ಯಾಮರಾ ಮಸೂರಗಳ ತಯಾರಿಕೆಯಲ್ಲಿ
b) ಕ್ರೂಕ್ಸ್ ಗ್ಲಾಸ್ : ಗಾಗಲ್‌ಗಳ ಲೆನ್ಸ್‌ಗಳ ತಯಾರಿಕೆಯಲ್ಲಿ
c) ಸೋಡಾ ಲೈಮ್‌ಗ್ಲಾಸ್ : ರೀಫ್ರಿಜೆರಿಂಗ್ ಬಾಟಲುಗಳ ತಯಾರಿಕೆಯಲ್ಲಿ
- (1) b ಮಾತ್ರ (2) b ಮತ್ತು c ಮಾತ್ರ
(3) a, b ಮತ್ತು c (4) a ಮತ್ತು c ಮಾತ್ರ
6. ಯಾವ ಹೆಸರಿನ ವಿದ್ಯುತ್‌ಕಾಂತೀಯ ವಿಕಿರಣಗಳನ್ನು ಮ್ಯಾಗ್ನೆಟಿಕ್ ರೆಸೊನೆನ್ಸ್ ಇಮೇಜಿಂಗ್ (MRI) ಸ್ಯಾನಿಂಗ್‌ನಲ್ಲಿ ಉಪಯೋಗಿಸುತ್ತಾರೆ?
- (1) ನೇರಳಾತೀತ ಕಿರಣಗಳು
(2) ರೇಡಿಯೋ ತರಂಗಗಳು
(3) ಸೂಕ್ಷ್ಮ ತರಂಗಗಳು (ಮೈಕ್ರೋವೇವ್ಸ್)
(4) ಗಾಮಾ ವಿಕಿರಣಗಳು

7.

ಈ ಕೆಳಕಂಡ ಯಾವ ಜೋಡಿಗಳು ಸರಿಯಾಗಿ ಹೊಂದಾಣಿಕೆಯಾಗುತ್ತವೆ?

ಭಾಗ I

ಭಾಗ II

- | | | |
|---------------|---|--|
| a) 243 ನೇ ವಿಧ | - | ಗ್ರಾಮ ಸಭಾ |
| b) 243 ಡಿ ವಿಧ | - | ಪಂಚಾಯತಿಗಳ ಸ್ಥಾನಗಳಲ್ಲಿ ಮೀಸಲಾತಿ |
| c) 243 ಜಿ ವಿಧ | - | ಪಂಚಾಯತ್‌ನ ಅಧಿಕಾರ, ಪ್ರಾಧಿಕಾರ ಮತ್ತು ಜವಾಬ್ದಾರಿಗಳು |
| d) 243 ಜೆ ವಿಧ | - | ಪಂಚಾಯತಿಗಳಿಗೆ ಚುನಾವಣೆ |
- (1) a ಮತ್ತು b ಮಾತ್ರ (2) b ಮತ್ತು c ಮಾತ್ರ
(3) c ಮತ್ತು d ಮಾತ್ರ (4) b ಮತ್ತು d ಮಾತ್ರ

8. ಕರ್ನಾಟಕ ಸೌಹಾರ್ದ ಸಹಕಾರಿ ಕಾಯ್ದೆ 1997 ರ ಮುಖ್ಯ ಉದ್ದೇಶವೇನು?
- (1) ಹೆಚ್ಚು ಸ್ವಾಯತ್ತ ಸಹಕಾರಿ ಸಂಘಗಳ ಸ್ಥಾಪನೆಗೆ ಅವಕಾಶ ಕಲ್ಪಿಸುವುದು
(2) ಎಲ್ಲಾ ಗ್ರಾಮೀಣ ಸಹಕಾರಿ ಸಂಘಗಳನ್ನು ವಿಲೀನಗೊಳಿಸುವುದು
(3) ಕೃಷಿ ಸಹಕಾರಿ ಸಂಘಗಳನ್ನು ಮಾತ್ರ ನಿಯಂತ್ರಿಸುವುದು
(4) ನಗರ ಸಹಕಾರಿ ಸಂಘಗಳನ್ನು ಉತ್ತೇಜಿಸುವುದು

SPACE FOR ROUGH WORK

5. Which of the following pairs of glass and their uses is/are correctly matched?
- a) Flint glass: making lenses of camera
 - b) Crooke's glass: making lenses of goggles
 - c) Soda-lime glass: making reagent bottles
- (1) b only (2) b and c only
(3) a, b and c (4) a and c only
6. Name the Electromagnetic radiation used in MRI (Magnetic Resonance Imaging) scanning
- (1) Ultraviolet rays
 - (2) Radio waves
 - (3) Microwaves
 - (4) Gamma radiation
7. Which of the following pairs are correctly matched?
- | Part – I | | Part – II |
|------------------|---|---|
| a) Article 243 | - | Gram Sabha |
| b) Article 243 D | - | Reservation of seats in Panchayats |
| c) Article 243 G | - | Powers, authority and responsibility of Panchayat |
| d) Article 243 J | - | Election to the Panchayats |
- (1) Only a and b (2) Only b and c
(3) Only c and d (4) Only b and d
8. What was the key objective of the Karnataka Souharda Sahakari Act 1997?
- (1) Allow the formation of more autonomous cooperative societies
 - (2) Merge all rural cooperative societies
 - (3) Regulate only agricultural cooperative societies
 - (4) Promote urban cooperatives

SPACE FOR ROUGH WORK

9.

ಪಂಚಾಯತ್ ಚುನಾವಣೆಯ ಮೇಲುಸ್ತುವಾರಿ ಮಾಡುವ, ನಿರ್ದೇಶನ ನೀಡುವ ಹಾಗೂ ಚುನಾವಣೆಗಳನ್ನು ನಡೆಸುವ ಅಧಿಕಾರ ಯಾರ ಬಳಿ ಇದೆ?

- (1) ಭಾರತೀಯ ಚುನಾವಣಾ ಆಯೋಗ
- (2) ರಾಜ್ಯ ಮುಖ್ಯ ಚುನಾವಣಾಧಿಕಾರಿಯ ಕಚೇರಿ
- (3) ಜಿಲ್ಲಾಡಳಿತ
- (4) ರಾಜ್ಯ ಚುನಾವಣಾ ಆಯೋಗ

10.

_____ ನಂತರ ಭೂಮಿಯಿಂದ ಚಂದ್ರನ ಹೊಳೆಯುತ್ತಿರುವ ಭಾಗದ ಗೋಚರಿಸುವಿಕೆಯ ಗಾತ್ರವು ಪ್ರತಿದಿನ _____

- (1) ಅಮವಾಸ್ಯೆ, ಕಡಿಮೆಯಾಗುತ್ತದೆ
- (2) ಅಮವಾಸ್ಯೆ, ಹೆಚ್ಚಾಗುತ್ತದೆ
- (3) ಅಮವಾಸ್ಯೆ, ಅದೇ ರೀತಿ ಇರುತ್ತದೆ
- (4) ಹುಣ್ಣಿಮೆ, ಹೆಚ್ಚಾಗುತ್ತದೆ

11. ಈ ಕೆಳಗಿನ ಯಾವುದು ಸರಿಯಾದ ಕಾಲಾನುಕ್ರಮದಲ್ಲಿದೆ?

- (1) ಲಾರ್ಡ್ ಆಮ್‌ಹರ್ಸ್ಟ್ - ವಿಲಿಯಂ ಬೆಂಟಿಂಕ್ - ಲಾರ್ಡ್ ಆಕ್‌ಲ್ಯಾಂಡ್ - ಲಾರ್ಡ್ ಎಲ್ಲೆನ್‌ಬರೋ
- (2) ವಿಲಿಯಂ ಬೆಂಟಿಂಕ್ - ಲಾರ್ಡ್ ಆಮ್‌ಹರ್ಸ್ಟ್ - ಲಾರ್ಡ್ ಆಕ್‌ಲ್ಯಾಂಡ್ - ಲಾರ್ಡ್ ಎಲ್ಲೆನ್‌ಬರೋ
- (3) ಲಾರ್ಡ್ ಎಲ್ಲೆನ್‌ಬರೋ - ಲಾರ್ಡ್ ಆಕ್‌ಲ್ಯಾಂಡ್ - ಲಾರ್ಡ್ ಆಮ್‌ಹರ್ಸ್ಟ್ - ವಿಲಿಯಂ ಬೆಂಟಿಂಕ್
- (4) ಲಾರ್ಡ್ ಆಮ್‌ಹರ್ಸ್ಟ್ - ಲಾರ್ಡ್ ಆಕ್‌ಲ್ಯಾಂಡ್ - ಲಾರ್ಡ್ ಎಲ್ಲೆನ್‌ಬರೋ - ವಿಲಿಯಂ ಬೆಂಟಿಂಕ್

12. ಭಾರತದ ಸ್ವಾತಂತ್ರ್ಯ ಚಳುವಳಿಯ ಕಾಲದ ಕ್ರಾಂತಿ ಸಂಘಟನೆ HRA ಯ ವಿಸ್ತೃತ ರೂಪ ಯಾವುದು?

- (1) ಹಿಂದೂ ರಿಲಿಜನ್ ಅಸೋಸಿಯೇಶನ್
- (2) ಹಿಂದೂಸ್ತಾನ್ ರಿಪಬ್ಲಿಕ್ ಅಸೋಸಿಯೇಶನ್
- (3) ಹಿಂದೂಸ್ತಾನ್ ರಿಫಾರ್ಮ್ಸ್ ಅಸೋಸಿಯೇಶನ್
- (4) ಹಿಂದೂ ರಿಪಬ್ಲಿಕ್ ಅಸೋಸಿಯೇಶನ್

13. 'ಸತ್ತರಿಯಾ' ನೃತ್ಯ ಪ್ರಕಾರವನ್ನು ಪರಿಚಯಿಸಿದವರು _____ .

- (1) ರಾಮ ದೇವ
- (2) ಶಂಕರದೇವ
- (3) ಬಿರ್ಜು ಮಹಾರಾಜ್
- (4) ಮೃಣಾಲ್ ಶುಕ್ಲಾ

14. ಈ ಕೆಳಗಿನ ಯಾವ ಜೋಡಿಯು ಬೆಳಗಾವಿಯಲ್ಲಿ ಮ್ಯಾಜಿನಿ ಕ್ಲಬ್ ಕ್ರಾಂತಿಕಾರಿ ಸಂಘವನ್ನು ಸ್ಥಾಪಿಸಿದರು?

- (1) ಗಂಗಾಧರ ರಾವ್ ದೇಶಪಾಂಡೆ - ಆಲೂರು ವೆಂಕಟರಾವ್
- (2) ಶ್ರೀನಿವಾಸ ಕೌಜಲಗಿ - ಗೋವಿಂದರಾವ್ ಯಾಳಗಿ
- (3) ಗೋವಿಂದರಾವ್ ಯಾಳಗಿ - ಹನುಮಂತರಾವ್ ದೇಶಪಾಂಡೆ
- (4) ಹನುಮಂತರಾವ್ ದೇಶಪಾಂಡೆ - ಗಂಗಾಧರರಾವ್ ದೇಶಪಾಂಡೆ

K.V

SPACE FOR ROUGH WORK

9. The superintendence, direction and the conduct of elections to the Panchayat are vested with
- (1) The Election Commission of India
 - (2) The Chief Electoral Officer of the State
 - (3) District Administration
 - (4) The State Election Commission
10. After _____, the size of the illuminated part of the moon visible from the earth _____ each day.
- (1) the new moon day, decreases
 - (2) the new moon day, increases
 - (3) the new moon day, remains same
 - (4) the full moon day, increases
11. Which one of the following is in correct chronological order?
- (1) Lord Amherst – William Bentinck – Lord Auckland – Lord Ellenborough
 - (2) William Bentinck – Lord Amherst – Lord Auckland – Lord Ellenborough
 - (3) Lord Ellenborough – Lord Auckland – Lord Amherst – William Bentinck
 - (4) Lord Amherst – Lord Auckland – Lord Ellenborough – William Bentinck
12. What is the expansion of HRA, a revolutionary association of Indian National Movement?
- (1) Hindu Religion Association
 - (2) Hindustan Republic Association
 - (3) Hindustan Reforms Association
 - (4) Hindu Republic Association
13. Sattriya Dance form was introduced by _____.
- (1) Rama Deva
 - (2) Shankaradeva
 - (3) Birju Maharaj
 - (4) Mrunal Shukla
14. Which of the following pairs established 'Mazzini Club', a revolutionary association in Belagavi?
- (1) Gangadhara Rao Deshpande – Alur Venkata Rao
 - (2) Srinivasa Koujalagi – Govindrao Yalagi
 - (3) Govindrao Yalagi – Hanumantha Rao Deshpande
 - (4) Hanumantha Rao Deshpande – Gangadhara Rao Deshpande

SPACE FOR ROUGH WORK

15. ಈ ಕೆಳಗಿನ ಹೇಳಿಕೆಗಳಲ್ಲಿ ಗುಪ್ತರ ಕುರಿತಾದ ತಪ್ಪಾದ ಹೇಳಿಕೆಯನ್ನು ಆಯ್ಕೆ ಮಾಡಿರಿ.
 (1) ಒಂದನೇ ಚಂದ್ರಗುಪ್ತನು ಲಿಚ್ಛವಿಯ ಯುವರಾಣಿಯನ್ನು ಮದುವೆಯಾಗಿ ತನ್ನ ರಾಜ್ಯದ ಸಾಮರ್ಥ್ಯವನ್ನು ಹೆಚ್ಚಿಸಿಕೊಂಡನು
 (2) ಸಾ.ಶ. 320 ರಲ್ಲಿ 'ಗುಪ್ತಶಕೆ' ಯನ್ನು ಸಮುದ್ರಗುಪ್ತನು ಪ್ರಾರಂಭಿಸಿದನು
 (3) ಸಮುದ್ರಗುಪ್ತನು ಶ್ರೇಷ್ಠ ಕವಿ ಹಾಗೂ ಸಂಗೀತಪ್ರಿಯನೂ ಆಗಿದ್ದನು
 (4) ಎರಡನೇ ಚಂದ್ರಗುಪ್ತನು 'ವಿಕ್ರಮಾದಿತ್ಯ' ಎಂಬ ಬಿರುದನ್ನು ಪಡೆದಿದ್ದನು
16. ಈ ಕೆಳಗಿನವುಗಳಲ್ಲಿ ಕೃತಿ ಮತ್ತು ಅದರ ರಚನೆಕಾರರ ಕುರಿತಾದ ತಪ್ಪಾದ ಜೋಡಿಯನ್ನು ಆಯ್ಕೆ ಮಾಡಿರಿ.
 (1) ಭಾರವಿ - ಕಿರಾತಾರ್ಜುನೀಯ (2) ದಂಡಿ - ದಶಕುಮಾರ ಚರಿತ
 (3) ಧರ್ಮಪಾಲ - ಮತ್ತವಿಲಾಸ ಪ್ರಹಸನ (4) ಶಿವ ಭಟ್ಟಾರಕ - ಹರ ಪಾರ್ವತೀಯ
17. ಪ್ರತಿಪಾದನೆ (A) : ಇಲ್ಲಮಿಶನು ದೆಹಲಿಯ ಸುಲ್ತಾನರ ಮನೆತನದ ನಿಜವಾದ ಸ್ಥಾಪಕ ಕಾರಣ (R) : ಇಲ್ಲಮಿಶನು ಕುತ್ಬುದ್ದೀನ್ ಐಬಕ್‌ನ ಮಗನಾಗಿದ್ದನು
 ಈ ಮೇಲ್ಕಂಡ ಹೇಳಿಕೆಗಳನ್ನು ಕುರಿತು ಈ ಕೆಳಕಂಡ ಆಯ್ಕೆಗಳಿಂದ ಸರಿಯಾದ ಉತ್ತರವನ್ನು ಆಯ್ಕೆ ಮಾಡಿ :
 (1) ಈ ಮೇಲಿನ ಎರಡೂ ಹೇಳಿಕೆಗಳು ಸರಿಯಾಗಿವೆ ಹಾಗೂ A ಯನ್ನು R ಸಮರ್ಥಿಸುತ್ತದೆ.
 (2) ಈ ಮೇಲಿನ ಎರಡೂ ಹೇಳಿಕೆಗಳು ಸರಿಯಾಗಿವೆ, ಆದರೆ A ಯನ್ನು R ಸಮರ್ಥಿಸುವುದಿಲ್ಲ
 (3) A ಸರಿಯಾಗಿದೆ ಆದರೆ R ತಪ್ಪಾಗಿದೆ.
 (4) R ಸರಿಯಾಗಿದೆ A ತಪ್ಪಾಗಿದೆ
18. ಒಂದು ಮಗು ಆರ್‌ಎಚ್ ಅಂಶ (Rh factor) ಹೊಂದಾಣಿಕೆಯಾಗದ ಕಾರಣ ರಕ್ತಹೀನತೆ ಮತ್ತು ಕಾಮಾಲೆಯಿಂದ ಬಳಲುತ್ತದೆ. ಅಂತಹ ಪರಿಸ್ಥಿತಿ ಯಾವಾಗ ಎದುರಾಗುತ್ತದೆ?
 (1) 'ಎ' ರಕ್ತದ ಗುಂಪಿನ ಮಹಿಳೆ 'ಬಿ' ರಕ್ತದ ಗುಂಪಿನ ಪುರುಷನೊಂದಿಗೆ ವಿವಾಹವಾದಾಗ
 (2) ಆರ್‌ಎಚ್ ಪಾಸಿಟಿವ್ ರಕ್ತದ ಗುಂಪಿನ ಮಹಿಳೆ, ಆರ್‌ಎಚ್ ನೆಗೆಟಿವ್ ಪುರುಷನೊಂದಿಗೆ ವಿವಾಹವಾದಾಗ
 (3) ಆರ್‌ಎಚ್ ನೆಗೆಟಿವ್ ರಕ್ತದ ಗುಂಪಿನ ಮಹಿಳೆ, ಆರ್‌ಎಚ್ ಪಾಸಿಟಿವ್ ಪುರುಷನೊಂದಿಗೆ ವಿವಾಹವಾದಾಗ
 (4) ಒ (O) ರಕ್ತದ ಗುಂಪಿನ ಪುರುಷ, ಒ (O) ಗುಂಪಿನ ಮಹಿಳೆಯೊಂದಿಗೆ ವಿವಾಹವಾದಾಗ
19. ಎರಡು ಗಾಳಿ ತುಂಬಿದ ಬಲೂನ್‌ಗಳನ್ನು ಪರಸ್ಪರ ಉಣ್ಣೆ ಬಟ್ಟೆಯಿಂದ ಉಜ್ಜಿ ಚಾರ್ಜ್ ಮಾಡಿದ ಬಳಿಕ ಆ ಬಲೂನ್‌ಗಳನ್ನು ಪರಸ್ಪರ ಸನಿಹಕ್ಕೆ ತಂದರೆ :
 (1) ಅವುಗಳ ಚಾರ್ಜ್‌ಗಳು ಸದೃಶವಾಗಿರುವುದರಿಂದ, ಅವು ಪರಸ್ಪರ ಆಕರ್ಷಿಸುತ್ತವೆ
 (2) ಅವುಗಳ ಚಾರ್ಜ್‌ಗಳು ವಿಭಿನ್ನವಾಗಿರುವುದರಿಂದ, ಅವು ಪರಸ್ಪರ ಆಕರ್ಷಿಸುತ್ತವೆ
 (3) ಅವುಗಳ ಚಾರ್ಜ್‌ಗಳು ಸದೃಶವಾಗಿರುವುದರಿಂದ, ಅವು ಪರಸ್ಪರ ವಿಕರ್ಷಿಸುತ್ತವೆ
 (4) ಅವುಗಳ ಚಾರ್ಜ್‌ಗಳು ವಿಭಿನ್ನವಾಗಿರುವುದರಿಂದ, ಅವು ಪರಸ್ಪರ ವಿಕರ್ಷಿಸುತ್ತವೆ

SPACE FOR ROUGH WORK

15. Choose from the following the incorrect statement about Guptas:
- (1) Chandragupta–I married a Licchavi princess and strengthened his kingdom
 - (2) Samudra Gupta began 'Gupta Era' in 320 C.E.
 - (3) Samudra Gupta was a great poet and music lover
 - (4) Chandra Gupta–II earned the title of "Vikramaditya"
16. Choose the incorrect pair from the following about literature and their author:
- | | |
|---------------------------------------|---------------------------------------|
| (1) Bharavi – Kiratarjuniya | (2) Dandi – Dashakumara Charita |
| (3) Dharmapala – Mattavilas Prahasana | (4) Shiva Bhattaraka – Hara Parvatiya |
17. Assertion (A): Iltutmish was the real founder of the Sulthanate of Delhi
Reason (R): Iltutmish was the son of Qutb ud-Din Aibak
Which one of the following is correct in respect of the above statements?
- (1) Both Statements 'A' and 'R' are correct and 'R' explains 'A'
 - (2) Both Statements 'A' and 'R' are correct but 'R' does not explain 'A'
 - (3) Statement 'A' is correct but Statement 'R' is incorrect
 - (4) Statement 'A' is incorrect but Statement 'R' is correct
18. A baby suffering from severe anemia and jaundice due to incompatibility of Rh. factor. When does such condition occur?
- (1) 'A' blood group woman marries 'B' blood group man
 - (2) Rh +ve blood group woman marries a Rh –ve blood group man
 - (3) Rh –ve blood group woman marries a Rh +ve blood group man
 - (4) 'O' blood group man marries 'O' blood group woman
19. Two inflated balloons are charged by rubbing them with woollen cloth. If the balloons are brought nearer, then
- (1) they attract each other as their charges are alike
 - (2) they attract each other as their charges are unlike
 - (3) they repel each other as their charges are alike
 - (4) they repel each other as their charges are unlike

SPACE FOR ROUGH WORK

20. ಪಟ್ಟಿ A ಯಲ್ಲಿ ನೀಡಲಾಗಿರುವ ಉಪಕರಣಗಳನ್ನು ಪಟ್ಟಿ B ಯಲ್ಲಿರುವ ಬಳಸುವಿಕೆಯೊಂದಿಗೆ ಹೊಂದಿಸಿ ಬರೆಯಿರಿ :

ಪಟ್ಟಿ A

ಪಟ್ಟಿ B

a) ಸ್ಪಿಂಗ್ ಬ್ಯಾಲೆನ್ಸ್

i. ಚಾರ್ಜ್ ಗುರುತಿಸಲು ಬಳಸಲಾಗುತ್ತದೆ

b) ಅಮ್ಮೀಟರ್

ii. ಭೂಕಂಪದ ಸಾಮರ್ಥ್ಯವನ್ನು ಮಾಪನ ಮಾಡಲು ಬಳಸಲಾಗುತ್ತದೆ

c) ಎಲೆಕ್ಟ್ರೋಸ್ಟೋಪ್

iii. ವಿದ್ಯುತ್ ಪ್ರವಾಹವನ್ನು ಮಾಪನ ಮಾಡಲು ಬಳಸಲಾಗುತ್ತದೆ

d) ಸಿಸ್ಟೋಗ್ರಾಫ್

iv. ಬಲ (force) ವನ್ನು ಮಾಪನ ಮಾಡಲು ಬಳಸಲಾಗುತ್ತದೆ

(1) a - ii, b - iv, c - i, d - iii

(2) a - iv, b - iii, c - i, d - ii

(3) a - iii, b - iv, c - ii, d - i

(4) a - iv, b - i, c - iii, d - ii

21. ಎಣ್ಣೆ ಮತ್ತು ಕೊಬ್ಬಿನಲ್ಲಿ ಚಿಪ್ಸ್‌ನಂತಹ ವಸ್ತುಗಳನ್ನು ಕರಿದು, ಕೆಲ ಸಮಯ ಕಾಲ ಗಾಳಿಯ ತೇವಾಂಶಕ್ಕೆ ತೆರೆದಿಟ್ಟರೆ, ಎಣ್ಣೆ ಮತ್ತು ಕೊಬ್ಬು ಕಮಟುಗೊಂಡು ಚಿಪ್ಸ್ ಕೆಟ್ಟ ವಾಸನೆ ಬರಲು ಆರಂಭವಾಗುತ್ತದೆ. ಇದನ್ನು ತಪ್ಪಿಸಲು ಎಣ್ಣೆಯಲ್ಲಿ ಕರಿದ ಚಿಪ್ಸ್‌ನಂತಹ ವಸ್ತುಗಳನ್ನು ಬ್ಯಾಗ್‌ನಲ್ಲಿ ಒಂದು ಜಡ ಅನಿಲವನ್ನು ತುಂಬಿ ಪ್ಯಾಕ್ ಮಾಡಲಾಗುತ್ತದೆ. ಆ ಜಡ ಅನಿಲ ಸಾಮಾನ್ಯವಾಗಿ _____ ಆಗಿರುತ್ತದೆ.

(1) O₂

(2) N₂

(3) Cl₂

(4) H₂

22. ಮುದ್ರಾ ಯೋಜನೆಯಡಿ ಲಭ್ಯವಿರುವ ಮೂರು ಸಾಲದ ವಿಭಾಗಗಳು _____

(1) ಶಿಶು, ಕಿಶೋರ್, ಉತ್ತಮ್

(2) ಸುವಿಧ್, ಉತ್ತಮ್, ಕಿಶೋರ್

(3) ಶಿಶು, ಕಿಶೋರ್, ತರುಣ್

(4) ಉತ್ತಮ್, ತರುಣ್, ಸುವಿಧ್

23. ಹೊಂದಿಸಿ ಬರೆಯಿರಿ :

ಸಂಸ್ಥೆ

ಕೇಂದ್ರ ಸ್ಥಾನ

a) ಬಿಐಎಂಎಸ್‌ಟಿಇಸಿ (BIMSTEC)

i. ಮನಿಲಾ

b) ಐಎಂಎಫ್

ii. ಢಾಕಾ

c) ಎಷ್ಯನ್ ಡೆವಲಪ್‌ಮೆಂಟ್ ಬ್ಯಾಂಕ್

iii. ವಾಷಿಂಗ್ಟನ್ ಡಿಸಿ

d) ಡಬ್ಲ್ಯೂಎಚ್‌ಓ (WHO)

iv. ಜಿನೇವಾ

(1) a - ii, b - iii, c - i, d - iv

(2) a - ii, b - iii, c - iv, d - i

(3) a - iv, b - ii, c - iii, d - i

(4) a - i, b - iii, c - ii, d - iv

24. ಭಾರತದ ಮೊದಲ ಪೇಮೆಂಟ್ಸ್ ಬ್ಯಾಂಕ್ :

(1) ಫಿನೋ ಪೇಮೆಂಟ್ಸ್ ಬ್ಯಾಂಕ್

(2) ಏರಟೆಲ್ ಪೇಮೆಂಟ್ಸ್ ಬ್ಯಾಂಕ್

(3) ಪೇಟಿಎಂ ಪೇಮೆಂಟ್ಸ್ ಬ್ಯಾಂಕ್

(4) ಜಿಯೋ ಪೇಮೆಂಟ್ಸ್ ಬ್ಯಾಂಕ್

SPACE FOR ROUGH WORK

20. Match the devices present in List A with their applications given in List B.

List A

- a) Spring balance
- b) Ammeter
- c) Electroscope
- d) Seismograph

- (1) a – ii, b – iv, c – i, d – iii
- (3) a – iii, b – iv, c – ii, d – i

List B

- i. used to detect charge
- ii. used to measure power of an earthquake
- iii. used to measure electric current
- iv. used to measure force

- (2) a – iv, b – iii, c – i, d – ii
- (4) a – iv, b – i, c – iii, d – ii

21. Eatables fried in oil and fat like chips, when exposed to moist air over a period of time develop bad odour due to rancidification of oil and fat. To avoid this, chips fried in oil are packed in flush bags by filling an inert gas. The inert gas usually is

- (1) O_2
- (2) N_2
- (3) Cl_2
- (4) H_2

22. The three categories of loans under MUDRA scheme are _____

- (1) Shishu, Kishor, Uttam
- (2) Suvid, Uttam, Kishor
- (3) Shishu, Kishor, Tarun
- (4) Uttam, Tarun, Suvid

23. Match the following:

Organisation

- a) BIMSTEC
- b) IMF
- c) Asian Development Bank
- d) WHO

- (1) a – ii, b – iii, c – i, d – iv
- (3) a – iv, b – ii, c – iii, d – i

Headquarters

- i. Manila
- ii. Dhaka
- iii. Washington D.C
- iv. Geneva

- (2) a – ii, b – iii, c – iv, d – i
- (4) a – i, b – iii, c – ii, d – iv

24. India's first Payment Bank is

- (1) Fino Payments Bank
- (3) Paytm Payments Bank

- (2) Airtel Payments Bank
- (4) Jio Payments Bank

K.V

SPACE FOR ROUGH WORK

25. ಈ ಕೆಳಗಿನವುಗಳಲ್ಲಿ ದ್ರಾವಿಡಿಯನ್ ಗುಂಪಿಗೆ ಸೇರಿದ ಭಾಷೆ/ಭಾಷೆಗಳು ಯಾವುದು/ಯಾವುವು?

- a) ಕುರುಖ್
- b) ಮಾಲ್ತೋ
- c) ಕೊಲಾಮಿ
- d) ಪರ್ಜಿ

ಕೆಳಕಂಡ ಆಯ್ಕೆಗಳಿಂದ ಸರಿ ಉತ್ತರವನ್ನು ಆರಿಸಿರಿ :

- (1) d ಮಾತ್ರ ಸರಿ
- (2) c ಮತ್ತು d ಮಾತ್ರ ಸರಿ
- (3) a ಮತ್ತು b ಮಾತ್ರ ಸರಿ
- (4) a, b, c ಮತ್ತು d ಸರಿಯಾಗಿವೆ

26. ಕೆಳಕಂಡ ಹೇಳಿಕೆಗಳನ್ನು ಪರಿಗಣಿಸಿ :

- a) ವಾಯುಗುಣಮಟ್ಟ ಮಾನದಂಡಕ್ಕೆ ಸಂಬಂಧಿಸಿದಂತೆ ಭಾರತದಲ್ಲಿ ಕೈಗಾರಿಕೆ, ವಸತಿ ಪ್ರದೇಶ ಮತ್ತು ಸೂಕ್ಷ್ಮ ಪ್ರದೇಶಗಳಿಗೆ ಪ್ರತ್ಯೇಕ ಮಾನದಂಡಗಳಿವೆ.
- b) ವಿಶ್ವ ಆರೋಗ್ಯ ಸಂಸ್ಥೆಯ (WHO) ಮಾರ್ಗಸೂಚಿಗಳು ಎಲ್ಲಾ ಭೂಬಳಕೆ ಪ್ರದೇಶಗಳಿಗೆ ಏಕರೂಪವಾಗಿವೆ.

ಮೇಲಿನ ಯಾವ ಹೇಳಿಕೆ/ಹೇಳಿಕೆಗಳು ಸರಿಯಾಗಿದೆ/ಸರಿಯಾಗಿವೆ?

- (1) a ಮಾತ್ರ
- (2) b ಮಾತ್ರ
- (3) a ಮತ್ತು b ಎರಡೂ
- (4) a ಮತ್ತು b ಎರಡೂ ಅಲ್ಲ

27. ಕರ್ನಾಟಕದಲ್ಲಿ ರೈಲ್ವೆಗೆ ಸಂಬಂಧಿಸಿದಂತೆ ಈ ಕೆಳಕಂಡ ಯಾವ ಹೇಳಿಕೆಗಳು ಸರಿಯಿಲ್ಲ ?

- (1) ಹುಬ್ಬಳ್ಳಿ ವಿಭಾಗವನ್ನು ಬೆಂಗಳೂರು ಮತ್ತು ಮೈಸೂರು ವಿಭಾಗಗಳನ್ನು ಸೇರಿಸಿ ನೈರುತ್ಯ ರೈಲ್ವೆ ವಿಭಾಗವನ್ನು ರಚಿಸಲಾಗಿದೆ.
- (2) ಕೊಂಕಣ ರೈಲ್ವೆಯಲ್ಲಿ ಪ್ರಥಮ ಪ್ರಯಾಣಿಕರ ರೈಲು 1993 ರಲ್ಲಿ ಮಂಗಳೂರು ಮತ್ತು ಕಾರವಾರದ ನಡುವೆ ಸಂಚರಿಸಿತು.
- (3) 2016 ರಲ್ಲಿ ಬೆಂಗಳೂರು ನಗರ ರೈಲು ನಿಲ್ದಾಣವನ್ನು 'ಕ್ರಾಂತಿವೀರ ಸಂಗೊಳ್ಳಿ ರಾಯಣ್ಣ ರೈಲ್ವೆ ನಿಲ್ದಾಣ' ಎಂದು ಮರುನಾಮಕರಣ ಮಾಡಲಾಯಿತು.
- (4) ರಾಜ್ಯದಲ್ಲಿ ಪ್ರಥಮ ರೈಲ್ವೆ ಮಾರ್ಗ ಬೆಂಗಳೂರಿನಿಂದ-ಮದ್ರಾಸ್‌ವರೆಗಿದ್ದು, ಅದನ್ನು 1864 ರಲ್ಲಿ ಆರಂಭಿಸಲಾಯಿತು.

28. ಕರ್ನಾಟಕ ರಾಜ್ಯದ ಪ್ರವಾಸ ಇಲಾಖೆಗೆ ಸಂಬಂಧಿಸಿದ ಈ ಕೆಳಗಿನ ಯಾವ ಘೋಷವಾಕ್ಯ ಸರಿಯಾಗಿದೆ?

- (1) ಒಂದು ರಾಜ್ಯ ಅನೇಕ ಪ್ರಪಂಚಗಳು
- (2) ಒಂದು ರಾಜ್ಯ ಅನೇಕ ದೇಶಗಳು
- (3) ಒಂದು ಪ್ರಪಂಚ ಅನೇಕ ರಾಜ್ಯಗಳು
- (4) ಒಂದು ದೇಶ ಅನೇಕ ಪ್ರಪಂಚಗಳು

SPACE FOR ROUGH WORK

25. Which of the following language/languages is/are related to Dravidian group?

- a) Kurukh
- b) Malto
- c) Kolami
- d) Parji

Choose the correct answer from the options given below:

- (1) d only
- (2) c and d only
- (3) a and b only
- (4) a, b, c and d are correct

26. Consider the following statements:

- a) In India separate air quality standards have been notified for industrial, residential and sensitive areas
- b) WHO guidelines are common for all land-use areas

Which of the above statement/statements is/are correct?

- (1) a only
- (2) b only
- (3) Both a and b
- (4) Neither a nor b

27. Which of the following statements is not correct about railways in Karnataka?

- (1) South-Western Railway was created by merging the Hubli division with the Bangalore and Mysore divisions
- (2) In Konkan Railway the first passenger train ran between Mangalore and Karwar in 1993
- (3) The Bangalore City Railway Station was renamed as "Kranthiveera Sangolli Rayanna Railway Station" in 2016
- (4) The first railway line in the state was from Bengaluru to Madras and it was opened in 1864.

28. Which one of the following slogans of Tourism Department of Karnataka State is correct?

- (1) One State Many Worlds
- (2) One State Many Countries
- (3) One World Many States
- (4) One Country Many Worlds

SPACE FOR ROUGH WORK

29) ನಾಗರಿಕರು ತಮ್ಮ ಭೂಮಿಗೆ ಸಂಬಂಧಿಸಿದ ದಾಖಲೆಗಳು ಹಾಗೂ ವಹಿವಾಟುಗಳನ್ನು ಕರ್ನಾಟಕ ರಾಜ್ಯ ಕಂದಾಯ ಇಲಾಖೆಯ ಯಾವ ಪೋರ್ಟಲ್‌ನಲ್ಲಿ ನೋಡಬಹುದಾಗಿದೆ?

(1) ಪರಿಹಾರ

(2) ಭೂಮಿ

(3) ಕಾವೇರಿ

(4) ಪಹಣಿ ಆನ್‌ಲೈನ್

30. ಈ ಕೆಳಗಿನವರಲ್ಲಿ ದೀರ್ಘಾವಧಿಯವರೆಗೆ ಭಾರತೀಯ ರಾಷ್ಟ್ರೀಯ ಕಾಂಗ್ರೆಸ್ಸಿನ ಅಧ್ಯಕ್ಷರಾಗಿ ಸೇವೆ ಸಲ್ಲಿಸಿದ ದಾಖಲೆ ಯಾವ ಹೆಸರಿನಲ್ಲಿದೆ?

(1) ದಾದಾಬಾಯಿ ನವರೋಜಿ

(2) ಸುರೇಂದ್ರನಾಥ ಬ್ಯಾನರ್ಜಿ

(3) ರಾಶ್ ಬಿಹಾರಿ ಫೋಷ್

(4) ಡಬ್ಲ್ಯೂ.ಸಿ. ಬ್ಯಾನರ್ಜಿ

31. ಕೆಳಗಿನ ಯಾವ ಸ್ಥಳಗಳು ಡಚ್ಚರ ವ್ಯಾಪಾರ ಕೇಂದ್ರಗಳಾಗಿದ್ದವು?

(1) ಮಚಲಿಪಟ್ಟಣಂ, ದಿಯು, ದಮನ್, ಸೂರತ್

(2) ಸೂರತ್, ಆಗ್ರಾ, ಅಹ್ಮದಾಬಾದ್, ಬಾಂಬೆ

(3) ಪುಲಿಕಾಟ್, ಪಾಂಡಿಚೆರಿ, ಚಂದ್ರನಾಗೂರ್, ಮಾಹೆ

(4) ಪುಲಿಕಾಟ್, ಸೂರತ್, ಮಚಲಿಪಟ್ಟಣಂ, ನಾಗಪಟ್ಟಣಂ

32. ಕೆ. ಕಸ್ತೂರಿರಂಗನ್ ಸಮಿತಿಗೆ ಸಂಬಂಧಿಸಿದಂತೆ ಈ ಕೆಳಗಿನ ಯಾವ ಹೇಳಿಕೆ/ಹೇಳಿಕೆಗಳು ಸರಿಯಾಗಿದೆ/ಸರಿಯಾಗಿವೆ?

a) ಈ ಸಮಿತಿಯನ್ನು 2022 ರಲ್ಲಿ ರಚಿಸಲಾಯಿತು.

b) ಈ ಸಮಿತಿಯನ್ನು ಪಶ್ಚಿಮ ಘಟ್ಟಗಳಲ್ಲಿರುವ ಪ್ರಮುಖ ಪರಿಸರ ಸಂಬಂಧಿ ಪ್ರದೇಶಗಳ ಸ್ಥಿತಿಗತಿಗಳನ್ನು ಅಧ್ಯಯನ ಮಾಡಲು ರಚಿಸಲಾಗಿತ್ತು.

c) ಕರ್ನಾಟಕ ಸರ್ಕಾರವು ಸೆಪ್ಟೆಂಬರ್ 2024 ರಲ್ಲಿ ಕಸ್ತೂರಿರಂಗನ್ ಸಮಿತಿಯ ವರದಿಯನ್ನು ಅಂಗೀಕರಿಸಿತು.

(1) a, b ಮತ್ತು c ಸರಿಯಾಗಿವೆ

(2) ಕೇವಲ c ಮಾತ್ರ ಸರಿಯಾಗಿದೆ

(3) ಕೇವಲ b ಮಾತ್ರ ಸರಿಯಾಗಿದೆ

(4) ಕೇವಲ a ಮತ್ತು b ಮಾತ್ರ ಸರಿಯಾಗಿವೆ

33. ಹೊಂದಿಸಿ ಬರೆಯಿರಿ.

ನಿವೇಶನಗಳು

ಸಾಕ್ಷ್ಯಗಳು

a) ಹರಪ್ಪ

i. ಹಡಗುಕಟ್ಟೆ

b) ಮೊಹೆಂಜೊದಾರೋ

ii. ಉಗ್ರಾಣಗಳು

c) ಕಾಲಿಬಂಗಾನ್

iii. ಚಿನ್ನದ ನಾಣ್ಯಗಳು

d) ಲೋಥಾಲ್

iv. ಯಜ್ಞಕುಂಡಗಳು

v. ನರ್ತಕಿಯ ವಿಗ್ರಹ

(1) a - i, b - iii, c - v, d - ii

(2) a - v, b - iv, c - iii, d - ii

(3) a - ii, b - v, c - iv, d - i

(4) a - iv, b - iii, c - ii, d - i

SPACE FOR ROUGH WORK

29. Which portal launched by the Karnataka Revenue Department allows citizens to track the status of their land-related documents and transactions online?
(1) Parihara (2) Bhoomi
(3) Kaveri (4) Pahani online
30. Who had the longest record of service as President of the Indian National Congress?
(1) Dadabhai Naoroji (2) Surendranath Banerjee
(3) Rash Behari Ghosh (4) W. C. Banerjee
31. Which of the following places were the business centers of Dutch?
(1) Machilipatnam, Diu, Daman, Surat
(2) Surat, Agra, Ahmedabad, Bombay
(3) Pulicat, Pondicherry, Chandranagur, Mahe
(4) Pulicat, Surat, Machilipatnam, Nagapattinam
32. Which of the following statements is/are correct regarding K. Kasturirangan Committee?
a) The Committee was set up in 2022.
b) It was set up to study the status of important ecological areas in the Western Ghats.
c) The Karnataka Government accepted the Kasturirangan Committee report in September 2024.
(1) a, b and c are correct (2) only c is correct
(3) only b is correct (4) only a and b are correct
33. Match the following:

Sites	Proofs
a) Harappa	i. Dockyard
b) Mohenjodaro	ii. Granaries
c) Kalibangan	iii. Gold coins
d) Lothal	iv. Fire altars
	v. The statue of dancing girl

(1) a – i, b – iii, c – v, d – ii (2) a – v, b – iv, c – iii, d – ii
(3) a – ii, b – v, c – iv, d – i (4) a – iv, b – iii, c – ii, d – i

SPACE FOR ROUGH WORK

34. ಸರಿಯಾದ ಸಂಯೋಜನೆಯನ್ನು ಗುರುತಿಸಿರಿ.

- a) 14 ನೇ ವಿಧಿ - ಕಾನೂನಿನ ಮುಂದೆ ಸಮಾನತೆ
b) 21 ನೇ ವಿಧಿ - ಬಿರುದುಗಳ ರದ್ದತಿ
c) 24 ನೇ ವಿಧಿ - ಆಸ್ಪತ್ಯತೆಯ ರದ್ದತಿ
d) 30 ನೇ ವಿಧಿ - ಧಾರ್ಮಿಕ ಸ್ವಾತಂತ್ರ್ಯದ ಹಕ್ಕು

ಈ ಕೆಳಗೆ ನೀಡಿರುವ ಆಯ್ಕೆಗಳಿಂದ ಸರಿಯಾದ ಉತ್ತರವಿರುವ ಕೋಡ್ ಅನ್ನು ಆರಿಸಿ :

- (1) a ಮಾತ್ರ (2) b ಮಾತ್ರ
(3) c ಮತ್ತು d ಮಾತ್ರ (4) d ಮಾತ್ರ

35. ಈ ಕೆಳಕಂಡ ಯೋಜನೆಗಳು ಮತ್ತು ಅವುಗಳ ಉದ್ದೇಶಗಳನ್ನು ಹೊಂದಿಸಿ ಬರೆಯಿರಿ :

ಯೋಜನೆಗಳು

ಉದ್ದೇಶಗಳು

- a) ಪ್ರಧಾನಮಂತ್ರಿ ಶ್ರಮ ಯೋಗಿ-ಮಾನ-ಧನ ಯೋಜನಾ
b) ಪ್ರಧಾನಮಂತ್ರಿ ಜೀವನ್ ಜ್ಯೋತಿ ಬಿಮಾ ಯೋಜನೆ
c) ರಾಷ್ಟ್ರೀಯ ಸಾಮಾಜಿಕ ನೆರವು ಯೋಜನೆ
d) ಪ್ರಧಾನಮಂತ್ರಿ ಸುರಕ್ಷಾ ಬಿಮಾ ಯೋಜನೆ

- i. ಯಾವುದೇ ಕಾರಣದಿಂದ ಸಾವು ಸಂಭವಿಸಿದರೆ, ಒಂದು ವರ್ಷದ ಜೀವ ವಿಮಾ ಸೌಲಭ್ಯ ಸುರಕ್ಷೆ
ii. ಅಸಂಘಟಿತ ವಲಯದ ಕಾರ್ಮಿಕರಿಗೆ ಪಿಂಚಣಿ ಯೋಜನೆ
iii. ಅಪಘಾತದಿಂದ ಸಾವು ಅಥವಾ ಅಂಗವೈಕಲ್ಯತೆ ಉಂಟಾದರೆ, ಒಂದು ವರ್ಷದ ಅಪಘಾತ ವಿಮಾ ಯೋಜನೆ ಸೌಲಭ್ಯ
iv. ಬಡ ಕುಟುಂಬದವರಿಗೆ ವೃದ್ಧಾಪ್ಯ, ಸಾವು ಮತ್ತು ಹೆರಿಗೆ ಸಂದರ್ಭದಲ್ಲಿ ಸಾಮಾಜಿಕ ಸೌಲಭ್ಯಗಳು

(1) a - ii, b - iv, c - i, d - iii

(2) a - iv, b - i, c - iii, d - ii

(3) a - ii, b - i, c - iv, d - iii

(4) a - iii, b - ii, c - i, d - iv

36. ಮಗಧವನ್ನು ಆಳಿದ ರಾಜವಂಶಗಳ ಸರಿಯಾದ ಕಾಲಾನುಕ್ರಮಣಿಕೆಯನ್ನು ಗುರುತಿಸಿ :

- (1) ಹರ್ಯಂಕ - ಮೌರ್ಯ - ಶಿಶುನಾಗ - ನಂದ - ಶುಂಗ
(2) ಹರ್ಯಂಕ - ಶಿಶುನಾಗ - ನಂದ - ಮೌರ್ಯ - ಶುಂಗ
(3) ಶಿಶುನಾಗ - ನಂದ - ಮೌರ್ಯ - ಶುಂಗ - ಹರ್ಯಂಕ
(4) ಶುಂಗ - ಹರ್ಯಂಕ - ಮೌರ್ಯ - ಶಿಶುನಾಗ - ನಂದ

34. Identify the correct combination:

- a) Article 14 – Equality before law
- b) Article 21 – Abolition of titles
- c) Article 24 – Abolition of untouchability
- d) Article 30 – Right to freedom of religion

Select the code for the correct answer from the options given below:

- (1) a only
- (2) b only
- (3) c and d only
- (4) d only

35. Match the following schemes with their objectives:

Schemes	Objectives
a) Pradhan Mantri Shram Yogi Maan-dhan Yojana	i. One year life insurance scheme offering coverage for death due to any reason
b) Pradhan Mantri Jeevan Jyoti Bima Yojana	ii. Pension scheme for unorganized workers
c) National Social Assistance Programme	iii. One year accidental insurance scheme which provides cover for the death or disability due to accident
d) Pradhan Mantri Suraksha Bima Yojana	iv. Social benefits to the poor households in case of old age, death & maternity

(1) a – ii, b – iv, c – i, d – iii

(2) a – iv, b – i, c – iii, d – ii

(3) a – ii, b – i, c – iv, d – iii

(4) a – iii, b – ii, c – i, d – iv

36. Identify the correct sequence of the dynasties who ruled Magadha.

- (1) Haryanka – Maurya – Shishunaga – Nanda – Shunga
- (2) Haryanka – Shishunaga – Nanda – Maurya – Shunga
- (3) Shishunaga – Nanda – Maurya – Shunga – Haryanka
- (4) Shunga – Haryanka – Maurya – Shishunaga – Nanda

Vinod

37. ಗ್ರಾಮ ಪಂಚಾಯತ್‌ಗೆ ಸಂಬಂಧಿಸಿದಂತೆ ಈ ಕೆಳಗಿನ ಹೇಳಿಕೆಗಳನ್ನು ಪರಿಗಣಿಸಿ ಸರಿಯಾದ ಉತ್ತರವನ್ನು ಆಯ್ಕೆ ಮಾಡಿರಿ.
- ಒಂದು ಗ್ರಾಮ ಪಂಚಾಯತಿಯ ವ್ಯಾಪ್ತಿಗೆ ಒಂದು ಗ್ರಾಮ ಅಥವಾ ಹಲವು ಗ್ರಾಮಗಳು ಬರುತ್ತವೆ.
 - ಗ್ರಾಮ ಪಂಚಾಯತಿಯ ಅಧ್ಯಕ್ಷರಿಗೆ ಹಣಕಾಸು ವ್ಯವಹಾರದ ಚೆಕ್ಕಿಗೆ ಸಹಿ ಮಾಡುವ ಅಧಿಕಾರವಿರುತ್ತದೆ.
 - ಗ್ರಾಮ ಆಡಳಿತಾಧಿಕಾರಿ (VAO), ಗ್ರಾಮ ಪಂಚಾಯತಿಯ ಅಧೀನದಲ್ಲಿ ಅಧ್ಯಕ್ಷರ ಆದೇಶದಂತೆ ಕಾರ್ಯನಿರ್ವಹಿಸಬೇಕು.
 - ಗ್ರಾಮ ಪಂಚಾಯತಿಯ ಅಧ್ಯಕ್ಷರ ಮತ್ತು ಉಪಾಧ್ಯಕ್ಷರ ಆಯ್ಕೆಗೆ ಯಾವುದೇ ಮೀಸಲಾತಿ ಇರುವುದಿಲ್ಲ.
- (1) a ಮತ್ತು b ಮಾತ್ರ ಸರಿ
 - (2) a ಮತ್ತು d ಮಾತ್ರ ಸರಿ
 - (3) c ಮತ್ತು d ಮಾತ್ರ ಸರಿ
 - (4) b ಮತ್ತು c ಮಾತ್ರ ಸರಿ

38. ಬಂದೂಕಿನಿಂದ ಗುಂಡನ್ನು ಹಾರಿಸಿದಾಗ, ಬಂದೂಕು ಗುಂಡಿನ ಮೇಲೆ ಬಲವನ್ನು ಹಾಗೂ ಗುಂಡು ಬಂದೂಕಿನ ಮೇಲೆ ಬಲವನ್ನು ಬೀರುತ್ತದೆ.
- ಹೇಳಿಕೆ A : ಗುಂಡಿನ ಮೇಲಿನ ಬಲ ಮತ್ತು ಬಂದೂಕಿನ ಮೇಲಿನ ಬಲ ಸಮ ಮತ್ತು ವಿರುದ್ಧವಾಗಿರುತ್ತದೆ.
- ಹೇಳಿಕೆ B : ಗುಂಡು ಮತ್ತು ಬಂದೂಕಿನ ಒಟ್ಟು ಸಂವೇಗವು (Total momentum) ಸಂರಕ್ಷಿಸಲ್ಪಡುತ್ತದೆ.
- ಹೇಳಿಕೆ C : ಗುಂಡು ಮತ್ತು ಬಂದೂಕಿನ ಒಟ್ಟು ಚಲನಶಕ್ತಿಯು (kinetic energy) ಸಂರಕ್ಷಿಸಲ್ಪಡುತ್ತದೆ.
- ಮೇಲಿನವುಗಳಲ್ಲಿ ಸರಿಯಾದ ಹೇಳಿಕೆ/ಹೇಳಿಕೆಗಳು :
- (1) ಹೇಳಿಕೆ A ಮತ್ತು ಹೇಳಿಕೆ B.
 - (2) ಹೇಳಿಕೆ B ಮತ್ತು ಹೇಳಿಕೆ C.
 - (3) ಹೇಳಿಕೆ A ಮತ್ತು ಹೇಳಿಕೆ C.
 - (4) ಹೇಳಿಕೆ C ಮಾತ್ರ.

39. ವಜ್ರಕ್ಕೆ ಸಂಬಂಧಿಸಿದಂತೆ, ಈ ಕೆಳಗಿನ ಯಾವ ಹೇಳಿಕೆ ಸರಿಯಾಗಿದೆ?
- (1) ವಜ್ರದಲ್ಲಿ ಪ್ರತಿ ಕಾರ್ಬನ್ ಪರಮಾಣು ಇತರೆ ಮೂರು ಕಾರ್ಬನ್‌ಗಳೊಂದಿಗೆ ಬಂಧಗೊಂಡಿದೆ.
 - (2) ವಜ್ರದಲ್ಲಿ ಪ್ರತಿ ಕಾರ್ಬನ್ ಪರಮಾಣು ಇತರೆ ನಾಲ್ಕು ಕಾರ್ಬನ್‌ಗಳೊಂದಿಗೆ ಬಂಧಗೊಂಡಿದೆ.
 - (3) ವಜ್ರದಲ್ಲಿ ಪ್ರತಿ ಕಾರ್ಬನ್ ಪರಮಾಣು ಇತರೆ ಆರು ಕಾರ್ಬನ್‌ಗಳೊಂದಿಗೆ ಬಂಧಗೊಂಡಿದೆ.
 - (4) ವಜ್ರದಲ್ಲಿ ಕಾರ್ಬನ್-ಕಾರ್ಬನ್ ಬಂಧವು ಅಸ್ತಿತ್ವದಲ್ಲಿರುವುದಿಲ್ಲ.

SPACE FOR ROUGH WORK

37. Consider the following statements regarding Gram Panchayats and choose the correct answer from the following codes:
- a) A village or a group of villages comes under the Jurisdiction of each Gram Panchayat
 - b) The President of Gram Panchayat has the power to sign the cheques related to financial affairs
 - c) Village Administrative Officer (VAO) has to work under Gram Panchayat as per the orders of President of Gram Panchayat
 - d) There exists no reservation for the selection of President and Vice-President of Gram Panchayat
- (1) Only a and b are correct
 - (2) Only a and d are correct
 - (3) Only c and d are correct
 - (4) Only b and c are correct
38. When a gun is fired, gun exerts a force on the bullet and the bullet exerts a force on the gun.
- Statement A: Force on the bullet is equal and opposite to force on the gun.
- Statement B: Total momentum of the bullet and the gun is conserved.
- Statement C: Total kinetic energy of the bullet and the gun is conserved.
- Among the above statements, the correct statement/statements is/are:
- (1) Statement A and Statement B
 - (2) Statement B and Statement C
 - (3) Statement A and Statement C
 - (4) Only Statement C
39. Which of the following statements is correct with respect to diamond?
- (1) Each carbon atom of diamond is bonded to three other carbon atoms
 - (2) Each carbon atom of diamond is bonded to four other carbon atoms
 - (3) Each carbon atom of diamond is bonded to six other carbon atoms
 - (4) Carbon-Carbon bond does not exist in diamond

40. ಕೆಳಕಂಡ ಅಂತಾರಾಷ್ಟ್ರೀಯ ಸಂಸ್ಥೆಗಳು ಮತ್ತು ಕೇಂದ್ರ ಸ್ಥಳಗಳನ್ನು ಹೊಂದಿಸಿರಿ :

ಅಂತಾರಾಷ್ಟ್ರೀಯ ಸಂಸ್ಥೆಗಳು	ಕೇಂದ್ರ ಸ್ಥಾನ
a) ಆಫ್ರಿಕನ್ ಯೂನಿಯನ್ (AU)	i. ಬ್ರಸೆಲ್ಸ್
b) ಆಗ್ನೇಯ ಏಷ್ಯಾ ರಾಷ್ಟ್ರಗಳ ಸಂಘಟನೆ (ASEAN)	ii. ಅಡಿಸ್ ಅಬಾಬಾ
c) ನಾರ್ತ್ ಅಟ್ಲಾಂಟಿಕ್ ಟ್ರೀಟಿ ಆರ್ಗನೈಸೇಷನ್ (NATO)	iii. ಜಿನಿವಾ
d) ವಿಶ್ವ ವ್ಯಾಪಾರ ಸಂಘಟನೆ (WTO)	iv. ಜಕಾರ್ತಾ

ಕೆಳಕಂಡ ಸಂಕೇತಗಳನ್ನು ಬಳಸಿಕೊಂಡು ಸರಿಯಾದ ಉತ್ತರವನ್ನು ಆಯ್ಕೆ ಮಾಡಿ :

- | | |
|------------------------------------|------------------------------------|
| (1) a - i, b - ii, c - iii, d - iv | (2) a - ii, b - iv, c - i, d - iii |
| (3) a - ii, b - iv, c - iii, d - i | (4) a - iv, b - ii, c - iii, d - i |

41. ಕ್ವಾಡ್ರಿಲ್ಯಾಟೆರಲ್ ಸೆಕ್ಯೂರಿಟಿ ಡಯಲಾಗ್ (QUAD) ನ ಸದಸ್ಯ ರಾಷ್ಟ್ರಗಳು ಯಾವುವು?

- ಭಾರತ
- ಜಪಾನ್
- ಯು.ಎಸ್.ಎ.
- ಆಸ್ಟ್ರೇಲಿಯಾ

ಕೆಳಗಿನ ಸಂಕೇತಗಳ ಮೂಲಕ ಸರಿಯಾದ ಉತ್ತರವನ್ನು ಆಯ್ಕೆ ಮಾಡಿ :

- | | |
|------------------------|---------------------|
| (1) a ಮತ್ತು c ಮಾತ್ರ | (2) a ಮತ್ತು b ಮಾತ್ರ |
| (3) a, b ಮತ್ತು c ಮಾತ್ರ | (4) a, b, c ಮತ್ತು d |

42. ಈ ಕೆಳಕಂಡ ವಿಶ್ವಸಂಸ್ಥೆಯ ಮಹಾಕಾರ್ಯದರ್ಶಿಗಳು ಮತ್ತು ಅವರ ದೇಶಕ್ಕೆ ಸಂಬಂಧಿಸಿದ ಯಾವ ಜೋಡಿ/ಜೋಡಿಗಳು ಸರಿಯಾಗಿ ಹೊಂದಾಣಿಕೆಯಾಗಿದೆ/ಹೊಂದಾಣಿಕೆಯಾಗಿವೆ?

ಮಹಾಕಾರ್ಯದರ್ಶಿ	ದೇಶ
a) ಟ್ರಿಗ್ವಿಲೀ	- ನಾರ್ವೆ
b) ಯು. ಥಾಂಟ್	- ಮ್ಯಾನ್ಮಾರ್
c) ಜೇವಿಯರ್ ಫೆರೇಜ್ ಡಿ ಕ್ಯೂಲರ್	- ಪೋರ್ಚುಗಲ್
d) ಆಂಟೋನಿಯೋ ಗುಟೆರೆಸ್	- ಪೆರು

- | | |
|---------------------|---------------------|
| (1) a ಮಾತ್ರ | (2) a ಮತ್ತು b ಮಾತ್ರ |
| (3) a ಮತ್ತು c ಮಾತ್ರ | (4) a, b, c ಮತ್ತು d |

K.V

SPACE FOR ROUGH WORK

40. Match the following International Organisations and Headquarters:

International Organisation	Headquarters
a) African Union (AU)	i. Brussels
b) Association of Southeast Asian Nations (ASEAN)	ii. Addis Ababa
c) North Atlantic Treaty Organisation (NATO)	iii. Geneva
d) World Trade Organisation (WTO)	iv. Jakarta

Select the correct answer using the codes given below:

- (1) a – i, b – ii, c – iii, d – iv (2) a – ii, b – iv, c – i, d – iii
(3) a – ii, b – iv, c – iii, d – i (4) a – iv, b – ii, c – iii, d – i

41. Which are the member-countries of Quadrilateral Security Dialogue (QUAD)?

- a) India
- b) Japan
- c) USA
- d) Australia

Select the correct answer using the codes given below:

- (1) a and c only (2) a and b only
(3) a, b and c only (4) a, b, c and d

42. Which of the following pair/pairs of Secretary Generals of UNO and their nations is/are correctly matched?

Secretary General	Nation
a) Trygve Lie	– Norway
b) U Thant	– Myanmar
c) Javier Pérez de Cuéller	– Portugal
d) Antonio Guterres	– Peru

- (1) a only (2) a and b only
(3) a and c only (4) a, b, c and d

SPACE FOR ROUGH WORK

43. ಈ ಕೆಳಗಿನವರಲ್ಲಿ ವಿಜಯನಗರವನ್ನು ಆಳಿದ ಸಂಗಮ ವಂಶದ ರಾಜರನ್ನು ಗುರುತಿಸಿ :

- a) ಎರಡನೇ ಬುಕ್ಕ
- b) ವೀರ ನರಸಿಂಹ
- c) ಒಂದನೇ ದೇವರಾಯ
- d) ಮಲ್ಲಿಕಾರ್ಜುನ

ಸರಿಯಾದ ಉತ್ತರವನ್ನು ಕೆಳಕಂಡ ಸಂಕೇತಗಳಿಂದ ಆಯ್ಕೆ ಮಾಡಿ :

- (1) a ಮತ್ತು b ಮಾತ್ರ
- (2) b ಮತ್ತು d ಮಾತ್ರ
- (3) a, b ಮತ್ತು d ಮಾತ್ರ
- (4) a, c ಮತ್ತು d ಮಾತ್ರ

44. 'ಶ್ರವಣಬೆಳಗೊಳ' ದೊಂದಿಗೆ ಐತಿಹಾಸಿಕ ಸಂಬಂಧ ಹೊಂದಿರುವ ವ್ಯಕ್ತಿಗಳನ್ನು ಗುರುತಿಸಿ :

- a) ಚಂದ್ರಗುಪ್ತ ಮೌರ್ಯ
- b) ಚಾವುಂಡರಾಯ
- c) ರಾಣಿ ಶಾಂತಲಾ
- d) ಚಿಕ್ಕದೇವರಾಜ ಒಡೆಯರ್
- e) ಮಲಿಕ್ ಕಾಫೂರ್

ಸರಿಯಾದ ಉತ್ತರವನ್ನು ಕೆಳಗಿನ ಸಂಕೇತಗಳಿಂದ ಆಯ್ಕೆ ಮಾಡಿ :

- (1) a, b ಮತ್ತು c
- (2) a, b, c ಮತ್ತು d
- (3) a, c, d ಮತ್ತು e
- (4) b, c, d ಮತ್ತು e

45. ಫೆರಿಸ್ತಾನ ಪ್ರಕಾರ ಆದಿಲ್‌ಷಾಹಿಗಳ ಕಾಲದಲ್ಲಿ ಬಿಜಾಪುರಕ್ಕೆ ನೀರಿನ ವ್ಯವಸ್ಥೆ ಕಲ್ಪಿಸಿದ ಸುಲ್ತಾನ ಯಾರು?

- (1) ಇಸ್ಮಾಯಿಲ್ ಆದಿಲ್ ಖಾನ್
- (2) ಒಂದನೇ ಅಲಿ ಆದಿಲ್ ಷಾ
- (3) ಮಹಮದ್ ಆದಿಲ್ ಷಾ
- (4) ಇಬ್ರಾಹಿಂ ಆದಿಲ್ ಷಾ

46. ಕರ್ನಾಟಕದಲ್ಲಿ ಬ್ರಿಟೀಷರ ವಿರುದ್ಧ ನಡೆದ ಸಶಸ್ತ್ರ ಬಂಡಾಯಗಳನ್ನು ಸರಿಯಾದ ಕಾಲಾನುಕ್ರಮದಲ್ಲಿ ಜೋಡಿಸಿ :

- a) ಸೂಪಾ ದಂಗೆ
- b) ನಿಪ್ಪಾಣಿ ದಂಗೆ
- c) ಸಿಂದಗಿ ದಂಗೆ
- d) ಬೀದರ್ ದಂಗೆ

- (1) a, b, d, c
- (2) d, c, a, b
- (3) b, d, a, c
- (4) d, c, b, a

43. Identify the Kings of Sangama dynasty who ruled Vijayanagara Empire.

- a) Bukka II
- b) Vira Narasimha
- c) Deva Raya I
- d) Mallikarjuna

Select the correct answer using the codes given below:

- (1) a and b only
- (2) b and d only
- (3) a, b and d only
- (4) a, c and d only

44. Identify the persons with historical connection with Shravanabelagola.

- a) Chandragupta Maurya
- b) Chavundaraya
- c) Queen Shantala
- d) Chikka Devaraja Wodeyar
- e) Malik Kafur

Select the correct answer using the codes given below:

- (1) a, b and c
- (2) a, b, c and d
- (3) a, c, d and e
- (4) b, c, d and e

45. According to Perista, name the Sultan who provided water system to Bijapur during Adilshahi's period.

- (1) Ismail Adil Khan
- (2) Ali Adil Shah I
- (3) Mohammad Adil Shah
- (4) Ibrahim Adil Shah

46. Arrange the following armed revolts in correct chronological order which were held against the British in Karnataka.

- a) Supa revolt
- b) Nippani revolt
- c) Sindagi revolt
- d) Bidar revolt

- (1) a, b, d, c
- (2) d, c, a, b
- (3) b, d, a, c
- (4) d, c, b, a

47. ಕೆಲವೊಂದು ವಿದ್ಯಮಾನಗಳನ್ನು ಮತ್ತು ಅವುಗಳ ಹಿಂದಿರುವ ಕಾರಣ/ತತ್ವಗಳನ್ನು ಕೆಳಗಿನ ಕೋಷ್ಟಕದಲ್ಲಿ ನೀಡಲಾಗಿದೆ.

ವಿದ್ಯಮಾನ	ಕಾರಣ/ತತ್ವ
a) ನಕ್ಷತ್ರಗಳ ಮಿನುಗುವಿಕೆ	- ವಾಯುಮಂಡಲ ವಕ್ರೀಭವನ
b) ಕಾಮನ ಬಿಲ್ಲು	- ಪ್ರಸರಣ ಹಾಗೂ ಸಂಪೂರ್ಣ ಆಂತರಿಕ ಪ್ರತಿಫಲನ
c) ಆಕಾಶದ ನೀಲಿ ಬಣ್ಣ	- ಬೆಳಕಿನ ಚದುರುವಿಕೆ

ಮೇಲಿನವುಗಳಲ್ಲಿ ಎಷ್ಟು ಹೊಂದಾಣಿಕೆ/ಹೊಂದಾಣಿಕೆಗಳು ಸರಿಯಾಗಿವೆ?

- | | |
|----------------|--------------------------------|
| (1) ಕೇವಲ ಒಂದು | (2) ಕೇವಲ ಎರಡು |
| (3) ಎಲ್ಲಾ ಮೂರೂ | (4) ಯಾವ ಹೊಂದಾಣಿಕೆಯೂ ಸರಿಯಾಗಿಲ್ಲ |

48. ಜಲಮಾಲಿನ್ಯ ತಡೆಗಟ್ಟುವಿಕೆ ಮತ್ತು ನಿಯಂತ್ರಣಕ್ಕಾಗಿ ಕರ್ನಾಟಕ ರಾಜ್ಯ ಮಾಲಿನ್ಯ ನಿಯಂತ್ರಣ ಮಂಡಳಿಯನ್ನು ಕರ್ನಾಟಕ ಸರ್ಕಾರವು ಈ ಕೆಳಗಿನ ಯಾವ ಕಾಯ್ದೆಯ ಅಡಿ ರಚಿಸಿತು?

- (1) ಜಲ (ಮಾಲಿನ್ಯ ತಡೆಗಟ್ಟುವಿಕೆ ಮತ್ತು ನಿಯಂತ್ರಣ) ಕಾಯ್ದೆ, 1974
- (2) ಪರಿಸರ ಸಂರಕ್ಷಣೆ ಕಾಯ್ದೆ, 1986
- (3) ಜಲ (ಮಾಲಿನ್ಯ ತಡೆಗಟ್ಟುವಿಕೆ ಮತ್ತು ನಿಯಂತ್ರಣ) ಸೆಸ್ ಕಾಯ್ದೆ, 1977
- (4) ಜಲ (ಮಾಲಿನ್ಯ ತಡೆಗಟ್ಟುವಿಕೆ ಮತ್ತು ನಿಯಂತ್ರಣ) ಕಾಯ್ದೆ, 1981

49. ಈ ಕೆಳಗಿನವುಗಳನ್ನು ಓದಿ :

- | | |
|------------------|-------------|
| a) ಕಲ್ಯಾಣ್ ಸೋನಾ | b) ಸೊನಾಲಿಕಾ |
| c) ಜಯಾ | d) ರತ್ನ |
| e) ಐಆರ್-8 (IR-8) | |

ಇವುಗಳಲ್ಲಿ ಆಕಿಯ ತಳವಿಧಗಳೆಂದರೆ :

- | | |
|----------------------|-------------------|
| (1) a, c, d, e ಮಾತ್ರ | (2) c, d, e ಮಾತ್ರ |
| (3) a, b, c, e ಮಾತ್ರ | (4) b, c, d ಮಾತ್ರ |

50. ಶಿಶುವಿನ ಜನನ ನಂತರದಲ್ಲಿ ಸ್ತನಗ್ರಂಥಿಗಳಿಂದ ಕ್ಷೀರದ ಸ್ರವಿಸುವಿಕೆ ಮತ್ತು ಬಿಡುಗಡೆಯನ್ನು ಪ್ರಚೋದಿಸಲು ಆತ್ಮಗತ್ಯವಾದ ರಸದೂತವೆಂದರೆ :

- | | |
|--------------------|--------------------|
| (1) ಮೆಲಟೋನಿನ್ | (2) ಆಕ್ಟೋಸಿನ್ |
| (3) ವ್ಯಾಸೊಪ್ರೆಸಿನ್ | (4) ಪ್ರೊಲ್ಯಾಕ್ಟಿನ್ |

SPACE FOR ROUGH WORK

47. Consider the following phenomena and the reasons for the phenomena shown in the table:

Phenomena	Reasons
a) Twinkling of Stars	Atmospheric refraction
b) Rainbow	Dispersion and total internal reflection
c) Blue colour of sky	Scattering of light

How many of the given pair/pairs above are correctly matched?

- (1) Only one (2) Only two
(3) All three (4) None of them is correctly matched

48. The Karnataka State Pollution Control Board for Prevention and Control of Water Pollution was constituted by the Government of Karnataka in pursuance of which of the following Acts?

- (1) Water (Prevention and Control of Pollution) Act, 1974
(2) Environment Protection Act, 1986
(3) Water (Prevention and Control of Pollution) Cess Act, 1977
(4) Water (Prevention and Control of Pollution) Act, 1981

49. Read the following:

- a) Kalyan Sona b) Sonalika
c) Jaya d) Ratna
e) IR - 8

Of these, the varieties of rice are

- (1) a, c, d, e only (2) c, d, e only
(3) a, b, c, e only (4) b, c, d only

50. The hormone very much essential for stimulation of secretion and release of milk from the mammary glands after child birth is

- (1) Melatonin (2) Oxytocin
(3) Vasopressin (4) Prolactin

K.V

51. ಮಾನವನ ಹೃದಯದ ಅಂಗಗಳು ಮತ್ತು ಅವುಗಳ ಕಾರ್ಯಗಳನ್ನು ಕೆಳಗೆ ನೀಡಲಾಗಿದೆ :

- a) ಬಲ ಹೃತ್ಕರ್ಣ - ದೇಹದ ಭಾಗಗಳಿಂದ ಅಶುದ್ಧ ರಕ್ತ ಸ್ವೀಕಾರ
b) ಎಡ ಹೃತ್ಕರ್ಣ - ದೇಹದ ಭಾಗಗಳಿಂದ ಶುದ್ಧರಕ್ತ ಸ್ವೀಕಾರ
c) ಬಲ ಹೃತ್ಕುಕ್ಷಿ - ಎಡ ಹೃತ್ಕರ್ಣದಿಂದ ಅಶುದ್ಧ ರಕ್ತ ಸ್ವೀಕಾರ
d) ಎಡ ಹೃತ್ಕುಕ್ಷಿ - ಬಲ ಹೃತ್ಕರ್ಣದಿಂದ ಶುದ್ಧರಕ್ತ ಸ್ವೀಕಾರ

ಮೇಲಿನವುಗಳಲ್ಲಿ ಎಷ್ಟು ಜೋಡಿ/ಜೋಡಿಗಳು ಸರಿಯಾಗಿ ಹೊಂದಾಣಿಕೆಯಾಗಿದೆ/ಹೊಂದಾಣಿಕೆಯಾಗಿವೆ?

- (1) 1 ಮಾತ್ರ (2) 2 ಮಾತ್ರ
(3) 3 ಮಾತ್ರ (4) ಎಲ್ಲಾ 4

52. 2023 ರಲ್ಲಿ ವೈದ್ಯಕೀಯ ಮತ್ತು ಶರೀರ ಕ್ರಿಯಾಶಾಸ್ತ್ರದ ಕ್ಷೇತ್ರದಲ್ಲಿ COVID 19 ಕ್ಕೆ ಪರಿಣಾಮಕಾರಿ mRNA ವ್ಯಾಕ್ಸಿನ್ ಅಭಿವೃದ್ಧಿಪಡಿಸಿ ನೋಬೆಲ್ ಪಾರಿತೋಷಕವನ್ನು ಪಡೆದವರು ಯಾರು?

- (1) ಕಾರಿಕೋ ಮತ್ತು ವೈಸ್‌ಮನ್ (2) ಹೆಚ್.ಜಿ. ಖೊರಾನಾ
(3) ವಾಟ್ಸನ್ ಮತ್ತು ಕ್ರಿಕ್ (4) ಜೆಫ್ರಿ ಇ ಹಿಂಟನ್

53. ಕರ್ನಾಟಕ ಯುದ್ಧಗಳಿಗೆ ಸಂಬಂಧಿಸಿದಂತೆ ಈ ಕೆಳಗಿನವುಗಳನ್ನು ಪರಿಗಣಿಸಿ :

- a) ಮೊದಲ ಕರ್ನಾಟಕ ಯುದ್ಧ : ಪ್ಯಾರೀಸ್ ಒಪ್ಪಂದ
b) ಎರಡನೇ ಕರ್ನಾಟಕ ಯುದ್ಧ : ಪಾಂಡಿಚೆರಿ ಒಪ್ಪಂದ
c) ಮೂರನೇ ಕರ್ನಾಟಕ ಯುದ್ಧ : ಎಕ್ಸ್-ಲಾ-ಚಾಪೆಲ್ ಒಪ್ಪಂದ

ಮೇಲಿನ ಎಷ್ಟು ಒಪ್ಪಂದ/ಒಪ್ಪಂದಗಳು ಸರಿಯಾಗಿ ಹೊಂದಿಕೆಯಾಗಿದೆ/ಹೊಂದಿಕೆಯಾಗಿವೆ ?

- (1) ಒಂದು ಮಾತ್ರ (2) ಎರಡು ಮಾತ್ರ
(3) ಎಲ್ಲಾ ಮೂರು (4) ಯಾವುದೂ ಇಲ್ಲ

54. ಭಾರತದಲ್ಲಿ ಗಾಂಧೀಜಿಯವರ ಆರಂಭಿಕ ಹೋರಾಟಗಳಿಗೆ ಸಂಬಂಧಿಸಿದಂತೆ, ಈ ಕೆಳಗಿನ ಜೋಡಿಗಳನ್ನು ಪರಿಗಣಿಸಿ :

- a) ಚಂಪಾರಣ್ ಸತ್ಯಾಗ್ರಹ : ಪ್ರಥಮ ಕಾನೂನುಭಂಗ ಚಳುವಳಿ
b) ಅಹ್ಮದಾಬಾದ್ ಹತ್ತಿಗಿರಣಿ ಮುಷ್ಕರ : ಪ್ರಥಮ ಅಸಹಕಾರ ಚಳುವಳಿ
c) ಖೇಡಾ ಸತ್ಯಾಗ್ರಹ : ಪ್ರಥಮ ಉಪವಾಸ ಸತ್ಯಾಗ್ರಹ

ಮೇಲಿನ ಎಷ್ಟು ಜೋಡಿ/ಜೋಡಿಗಳು ಸರಿಯಾಗಿ ಹೊಂದಿಕೆಯಾಗಿದೆ/ಹೊಂದಿಕೆಯಾಗಿವೆ ?

- (1) ಒಂದು ಮಾತ್ರ (2) ಎರಡು ಮಾತ್ರ
(3) ಎಲ್ಲಾ ಮೂರು (4) ಯಾವುದೂ ಅಲ್ಲ

51. With reference to human heart, consider the following parts of heart and their functions:

- a) Right Atrium – Receives impure blood from body parts
- b) Left Atrium – Receives pure blood from body parts
- c) Right Ventricle – Receives impure blood from left atrium
- d) Left Ventricle – Receives pure blood from right atrium

How many of the above pair/pairs is/are correctly matched?

- (1) Only one
- (2) Only two
- (3) Only three
- (4) All four

52. Who got the Nobel Prize in 2023 for developing effective mRNA vaccine for COVID-19 in the field of medicine and physiology?

- (1) Kariko and Weissman
- (2) H. G. Khorana
- (3) Watson and Crick
- (4) Geoffrey E. Hinton

53. With reference to the Carnatic wars, consider the following:

- a) First Carnatic War: Treaty of Paris
- b) Second Carnatic War: Treaty of Pondicherry
- c) Third Carnatic War: Treaty of Aix-la-Chapelle

How many of the above treaty/treaties is/are correctly matched?

- (1) Only one
- (2) Only two
- (3) All three
- (4) None

54. With reference to Gandhi's early activism in India, consider the following pairs:

- a) Champaran Satyagraha: First Civil Disobedience Movement
- b) Ahmedabad Mill Strike: First Non-Cooperation Movement
- c) Kheda Satyagraha: First Hunger Strike

How many of the above pair/pairs is/are correctly matched?

- (1) Only one
- (2) Only two
- (3) All three
- (4) None

55. ದಕ್ಷಿಣ ಭಾರತದಲ್ಲಿ ರೈತವಾರಿ ಪದ್ಧತಿಯ ಜಾರಿಗೆ ಶ್ರಮಿಸಿದವರು ಯಾರು?

- a) ಅಲೆಗ್ಸಾಂಡರ್ ರೀಡ್
- b) ಹಾಲ್ ಮೆಕೆಂಜಿ
- c) ಥಾಮಸ್ ಮನ್ರೋ
- d) ಜೇಮ್ಸ್ ಗ್ರಾಂಟ್ ಡಫ್

ಕೆಳಗಿನವುಗಳಲ್ಲಿ ಸರಿಯಾದುದನ್ನು ಗುರುತಿಸಿ :

(1) a ಮತ್ತು b ಮಾತ್ರ

(2) a, b ಮತ್ತು c ಮಾತ್ರ

(3) a ಮತ್ತು c ಮಾತ್ರ

(4) b, c ಮತ್ತು d ಮಾತ್ರ

56. ಪ್ಯಾರಿಸ್ ಒಲಿಂಪಿಕ್ಸ್-2024 ರ ಸಮಾರೋಪ ಸಮಾರಂಭದಲ್ಲಿ ಭಾರತದ ಧ್ವಜವನ್ನು ಹಿಡಿದವರು ಯಾರು?

(1) ಮನು ಭಾಕರ್ ಮತ್ತು ಪಿ.ಆರ್. ಶ್ರೀಜೇಶ್

(2) ನೀರಜ್ ಚೋಪ್ರಾ ಮತ್ತು ಪಿ.ಆರ್. ಶ್ರೀಜೇಶ್

(3) ಮನು ಭಾಕರ್ ಮತ್ತು ವಿನೇಶ್ ಫೋರ್ಗಟ್

(4) ಸ್ವಪ್ನಿಲ್ ಕುಸಾಳೆ ಮತ್ತು ಅಮನ್ ಸೆಹ್ರಾವತ್

57. 18 ನೇ ಲೋಕಸಭೆಯಲ್ಲಿ ಅತ್ಯಂತ ಹೆಚ್ಚು ಸಂಸದರನ್ನು ಹೊಂದಿರುವ ಪಕ್ಷ ಯಾವುದು?

(1) ಎನ್‌ಡಿಎ

(2) ಐಎನ್‌ಡಿಐಎ

(3) ಬಿಜೆಪಿ

(4) ಟಿಡಿಪಿ

58. ಪ್ಯಾರಾಲಿಂಪಿಕ್ಸ್ 2024 ಕ್ಕೆ ಸಂಬಂಧಿಸಿದ ಕೆಳಗಿನ ಹೇಳಿಕೆಗಳನ್ನು ಅವಲೋಕಿಸಿ :

a) ಪ್ಯಾರಾಲಿಂಪಿಕ್ಸ್ ಫ್ರಾನ್ಸ್ ರಾಜಧಾನಿ ಪ್ಯಾರಿಸ್‌ನಲ್ಲಿ ನಡೆದಿರುತ್ತದೆ.

b) ಪ್ಯಾರಾಲಿಂಪಿಕ್ಸ್ 5 ವರ್ಷಗಳಿಗೊಮ್ಮೆ ನಡೆಯುತ್ತದೆ

c) 2024 ರ ಪ್ಯಾರಾಲಿಂಪಿಕ್ಸ್‌ನಲ್ಲಿ ಭಾರತದ ಕ್ರೀಡಾಪಟುಗಳು ಮೊದಲ ಬಾರಿಗೆ ಹೆಚ್ಚು ಪದಕ ಗೆದ್ದಿದ್ದಾರೆ

d) ಕ್ರಮವಾಗಿ ಚೀನಾ, ಬ್ರಿಟನ್ ಮತ್ತು ಅಮೆರಿಕ ಹೆಚ್ಚು ಪದಕ ಗೆದ್ದ ಮೊದಲ 3 ದೇಶಗಳಾಗಿವೆ.

ಮೇಲಿನ ಹೇಳಿಕೆಗಳಲ್ಲಿ ಯಾವ ಹೇಳಿಕೆಗಳು ಸರಿಯಾಗಿವೆ ಎಂಬುದನ್ನು ಕೆಳಗಿನ ಸಂಕೇತಗಳಿಂದ ಗುರುತಿಸಿರಿ.

(1) a, c ಮತ್ತು d ಸರಿಯಾಗಿವೆ

(2) b, c ಮತ್ತು d ಸರಿಯಾಗಿವೆ

(3) a, b ಮತ್ತು d ಸರಿಯಾಗಿವೆ

(4) a ಮತ್ತು c ಸರಿಯಾಗಿವೆ

59. ಭಾರತವು ತನ್ನ ಪ್ರಥಮ ಬಾಹ್ಯಾಕಾಶ ದಿನವನ್ನು ಈ ಕೆಳಕಂಡ ಯಾವ ದಿನಾಂಕದಂದು ಆಚರಿಸಿತು?

(1) ಆಗಸ್ಟ್ 22, 2024

(2) ಆಗಸ್ಟ್ 23, 2024

(3) ಆಗಸ್ಟ್ 25, 2024

(4) ಆಗಸ್ಟ್ 27, 2024

K.V

SPACE FOR ROUGH WORK

55. Who tried to implement 'Ryotwari' system in South India?
- a) Alexander Read
 - b) Holt Mackenzie
 - c) Thomas Munro
 - d) James Grant Duff

Choose the correct answer from below:

- (1) a and b only
- (2) a, b and c only
- (3) a and c only
- (4) b, c and d only

56. Who among the following carried Indian flag during the closing ceremony of Paris Olympics-2024?

- (1) Manu Bhaker & P.R. Sreejesh
- (2) Neeraj Chopra & P.R. Sreejesh
- (3) Manu Bhaker & Vinesh Phogat
- (4) Swapnil Kusale & Aman Sehrawat

57. Which of the following party has the highest number of MPs in the 18th Lok Sabha?

- (1) NDA
- (2) INDIA
- (3) BJP
- (4) TDP

58. Consider the following statements with respect to Paralympics – 2024.

- a) Paralympics games were held in Paris, the capital of France.
- b) Paralympics games are held once in 5 years.
- c) For the first time Indian sportspersons have secured more medals in Paralympics – 2024.
- d) China, Britain and USA respectively are the three countries which have won the highest number of medals.

Which of the above statements are correct by using the following codes?

- (1) a, c and d are correct
- (2) b, c and d are correct
- (3) a, b and d are correct
- (4) a and c are correct

59. India celebrated its first National Space Day on which day?

- (1) August 22, 2024
- (2) August 23, 2024
- (3) August 25, 2024
- (4) August 27, 2024

SPACE FOR ROUGH WORK

60. ಭಾರತದ ರಾಷ್ಟ್ರೀಯ ಲಾಂಛನದಲ್ಲಿ ಈ ಕೆಳಕಂಡ ಯಾವ ಪ್ರಾಣಿಗಳು ಕಂಡುಬರುತ್ತವೆ?

- a) ಮಲಿ
b) ಆನೆ
c) ಸಿಂಹ
d) ನಂದಿ
e) ಕುದುರೆ

ಈ ಕೆಳಕಂಡ ಸಂಕೇತಗಳ ಮೂಲಕ ಸರಿಯಾದ ಉತ್ತರವನ್ನು ಆಯ್ಕೆ ಮಾಡಿರಿ.

- (1) a, b, c, d ಮತ್ತು e ಸರಿಯಾಗಿವೆ
(2) b, c, d ಮತ್ತು e ಸರಿಯಾಗಿವೆ
(3) a, b, c ಮತ್ತು d ಸರಿಯಾಗಿವೆ
(4) a, b, c ಮತ್ತು e ಸರಿಯಾಗಿವೆ

61. ಈ ಕೆಳಕಂಡ ಯಾವುದು ಭರತನಾಟ್ಯದ ಅನುಕ್ರಮದ ಭಾಗವಾಗಿಲ್ಲ?

- a) ಅಲರಿಪ್ಪು
b) ತರಂಗಂ
c) ಲಾಸ್ಯ
d) ವರ್ಣಂ
e) ತಿಲ್ಲಾಣ

ಕೆಳಕಂಡ ಆಯ್ಕೆಗಳಿಂದ ಸರಿಯಾದ ಉತ್ತರವನ್ನು ಆರಿಸಿರಿ :

- (1) a, b ಮತ್ತು d ಮಾತ್ರ
(2) b, c ಮತ್ತು d ಮಾತ್ರ
(3) b ಮತ್ತು c ಮಾತ್ರ
(4) a ಮತ್ತು b ಮಾತ್ರ

62. 2024 ರ ಸ್ವಾತಂತ್ರ್ಯ ದಿನಾಚರಣೆ ಸಂದರ್ಭದಲ್ಲಿ ರಾಮ್‌ಸಾರ್ ತಾಣವಾಗಿ ಹೊಸದಾಗಿ ಸೇರ್ಪಡೆ ಮಾಡಲಾಗಿರುವ ಈ ಕೆಳಕಂಡ ಸ್ಥಳಗಳನ್ನು ಪರಿಗಣಿಸಿರಿ :

- a) ನಂಜಾರಯನ್ ಪಕ್ಷಿಧಾಮ
b) ಕರುುವೇಲಿ ಪಕ್ಷಿಧಾಮ
c) ಶರಾವತಿ ಕಾಂಡ್ಲಾ ಮ್ಯಾಂಗ್ರೋವ್
d) ತವಾ ಜಲಾಶಯ

ಈ ಕೆಳಗಿನ ಆಯ್ಕೆಗಳಿಂದ ಸರಿಯಾದ ಉತ್ತರ ಆರಿಸಿ :

- (1) ಕೇವಲ a ಮತ್ತು b ಸರಿ
(2) ಕೇವಲ a, b ಮತ್ತು c ಸರಿ
(3) ಕೇವಲ a, b ಮತ್ತು d ಸರಿ
(4) a, b, c ಮತ್ತು d ಸರಿ

63. ಜಿ.ಪಿ.ಎಸ್. ಸಂಕೇತಗಳ ನಿಖರತೆ ಮತ್ತು ವಿಶ್ವಾಸಾರ್ಹತೆಯನ್ನು ಹೆಚ್ಚಿಸಲು ಭಾರತೀಯ ವಿಮಾನ ನಿಲ್ದಾಣಗಳ ಪ್ರಾಧಿಕಾರ ಹಾಗೂ ಭಾರತೀಯ ಬಾಹ್ಯಾಕಾಶ ಸಂಶೋಧನಾ ಸಂಸ್ಥೆ ಜಂಟಿಯಾಗಿ ಅಭಿವೃದ್ಧಿ ಪಡಿಸಿದ ವ್ಯವಸ್ಥೆಯ ಹೆಸರೇನು?

- (1) ಸುಗಮ್ಯ ಭಾರತ್ ಅಭಿಯಾನ್
(2) ಕೃಷಿ ಉಡಾನ್ 2.0
(3) ಡಿಜಿ (Digi) ಯಾತ್ರಾ
(4) ಗಗನ್ (GAGAN)

64. ಭಾರತದ ಹಣಕಾಸು ಸಚಿವರಾದ ಶ್ರೀಮತಿ ನಿರ್ಮಲಾ ಸೀತಾರಾಮನ್‌ರವರು ಭಾರತದ ನವೋದ್ಯಮ (ಸ್ಟಾರ್ಟ್‌ಅಪ್) ಗಳನ್ನು ಉತ್ತೇಜಿಸಲು ಏಂಜೆಲ್ ತೆರಿಗೆಯನ್ನು ರದ್ದುಗೊಳಿಸಿದ್ದಾರೆ. ಏಂಜೆಲ್ ತೆರಿಗೆಯನ್ನು ರದ್ದುಗೊಳಿಸಿದಾಗ ಅದರ ದರ ಎಷ್ಟಾಗಿತ್ತು?

- (1) 28.9%
(2) 25.9%
(3) 20.9%
(4) 30.9%

SPACE FOR ROUGH WORK

60. Which of the following animals are found on the Indian National Emblem?

- a) Tiger
b) Elephant
c) Lion
d) Bull
e) Horse

Choose the correct answer from the options given below:

- (1) a, b, c, d and e are correct
(2) b, c, d and e are correct
(3) a, b, c and d are correct
(4) a, b, c and e are correct

61. Which of the following are NOT a part of sequences in Bharatanatyam?

- a) Alarippu
b) Tarangam
c) Lasya
d) Varnam
e) Tillana

Choose the correct answer from the options given below:

- (1) a, b and d only
(2) b, c and d only
(3) b and c only
(4) a and b only

62. Which of the following Ramsar sites were recently added on the eve of Independence Day 2024?

- a) Nanjarayan Bird Sanctuary
b) Kazhuveli Bird Sanctuary
c) Sharavathi Kandla Mangrove
d) Tawa Reservoir

Choose the correct answer from the options given below:

- (1) Only a and b
(2) Only a, b and c
(3) Only a, b and d
(4) a, b, c and d

63. Name the collaborative system developed jointly by Airports Authority of India and Indian Space Research Organization to improve the accuracy and reliability of GPS signals.

- (1) Sugamya Bharat Abhiyan
(2) Krishi UDAN 2.0
(3) Digi Yatra
(4) GAGAN

Recently Angel Tax was abolished to boost India's startups by Smt. Nirmala Sitharaman, the Finance Minister of India. What was the rate of Angel Tax when it was abolished?

- (1) 28.9%
(2) 25.9%
(3) 20.9%
(4) 30.9%

65. ಅನುರಾ ಕುಮಾರ ದಿಸ್ಸನಾಯಕೆಯವರು ಪ್ರಸ್ತುತ ಶ್ರೀಲಂಕಾದ ಅಧ್ಯಕ್ಷರಾಗಿದ್ದು, ಅವರು ಈ ಕೆಳಗಿನ ಯಾವ ರಾಜಕೀಯ ಪಕ್ಷಕ್ಕೆ ಸೇರಿದವರಾಗಿದ್ದಾರೆ?

- (1) ಜನತಾ ವಿಮುಕ್ತಿ ಪರಮುನಾ
(3) ಸಿಲೋನ್ ವರ್ಕರ್ಸ್ ಕಾಂಗ್ರೆಸ್

- (2) ಯುನೈಟೆಡ್ ನ್ಯಾಷನಲ್ ಪಾರ್ಟಿ
(4) ಡೆಮೋಕ್ರಟಿಕ್ ಪೀಪಲ್ಸ್ ಫ್ರಂಟ್

66. ಈ ಕೆಳಗಿನವರಲ್ಲಿ ಯಾರನ್ನು ಬಾಂಗ್ಲಾದೇಶದ 'ರಾಷ್ಟ್ರಪಿತ' ಎಂದು ಕರೆಯಲಾಗುತ್ತದೆ?

- (1) ಶೇಖ್ ಮುಜೀಬುರ್ ರೆಹಮಾನ್
(3) ಮೊಹಮ್ಮದ್ ಯೂನುಸ್

- (2) ಮೊಹಮ್ಮದ್ ಶಹಾಬುದ್ದೀನ್
(4) ಹುಸೇನ್ ಮೊಹಮ್ಮದ್ ಇರ್ಷಾದ್

67. ದಾದಾಸಾಹೇಬ್ ಫಾಲ್ಕೆ ಪ್ರಶಸ್ತಿಗೆ ಸಂಬಂಧಿಸಿದಂತೆ ಈ ಕೆಳಗಿನ ಯಾವ ಹೇಳಿಕೆ/ಹೇಳಿಕೆಗಳು ತಪ್ಪಾಗಿದೆ/ತಪ್ಪಾಗಿವೆ?

- a) ಭಾರತ ಸರ್ಕಾರವು 1950 ರಲ್ಲಿ ಈ ಪ್ರಶಸ್ತಿಯನ್ನು ಪರಿಚಯಿಸಿತು
b) ದಾದಾಸಾಹೇಬ್ ಫಾಲ್ಕೆ ಪ್ರಶಸ್ತಿಯನ್ನು ಪ್ರಥಮ ಬಾರಿಗೆ ಪೃಥ್ವಿರಾಜ್ ಕಪೂರ್‌ರವರು ಪಡೆದರು.
c) ಈ ಪ್ರಶಸ್ತಿಯನ್ನು ಮಿಥುನ್ ಚಕ್ರವರ್ತಿಯವರಿಗೆ 69 ನೇ ರಾಷ್ಟ್ರೀಯ ಚಲನಚಿತ್ರ ಪ್ರಶಸ್ತಿ ಸಮಾರಂಭದಲ್ಲಿ ನೀಡಿ ಗೌರವಿಸಲಾಯಿತು.
d) ಡಾ. ರಾಜ್‌ಕುಮಾರ್‌ರವರು 43 ನೇ ರಾಷ್ಟ್ರೀಯ ಚಲನಚಿತ್ರ ಪ್ರಶಸ್ತಿ ಪ್ರದಾನ ಸಮಾರಂಭದಲ್ಲಿ ಈ ಪ್ರಶಸ್ತಿಯನ್ನು ಸ್ವೀಕರಿಸಿದರು.

(1) c ಮತ್ತು d ತಪ್ಪಾಗಿವೆ

(2) ಕೇವಲ d ತಪ್ಪಾಗಿದೆ

(3) a, b ಮತ್ತು c ತಪ್ಪಾಗಿವೆ

(4) ಕೇವಲ c ತಪ್ಪಾಗಿದೆ

68. HSRP ಯನ್ನು ವಿಸ್ತರಿಸಿರಿ :

- (1) ಹೈ ಸ್ಪೀಡ್ ರಿಜಿಸ್ಟ್ರೇಷನ್ ಪ್ಲೇಸ್
(2) ಹೈ ಸೆಕ್ಯೂರಿಟಿ ರಿಜಿಸ್ಟ್ರೇಷನ್ ಪ್ಲೇಟ್
(3) ಹೆವಿ ಸೆಕ್ಯೂರಿಟಿ ರಿಜಿಸ್ಟ್ರೇಷನ್ ಪ್ಲೇಸ್
(4) ಹೈ ಸ್ಪೀಡ್ ರಿಜಿಸ್ಟ್ರೇಷನ್ ಪ್ಲೇಟ್

69. ಭಾರತ ಸರ್ಕಾರವು ರಚಿಸಿದ 'ಒಂದು ರಾಷ್ಟ್ರ ಒಂದು ಚುನಾವಣೆ' ಉನ್ನತಾಧಿಕಾರ ಸಮಿತಿಯ ಅಧ್ಯಕ್ಷರು ಯಾರಾಗಿದ್ದರು?

(1) ಅಮಿತ್ ಷಾ

(2) ಪ್ರಹ್ಲಾದ್ ಜೋಶಿ

(3) ಹರೀಶ್ ಸಾಳ್ವೆ

(4) ರಾಮನಾಥ್ ಕೋವಿಂದ್

SPACE FOR ROUGH WORK

65. Anura Kumara Dissanayake, the current President of Sri Lanka, belongs to which of the following political parties?
- (1) Janatha Vimukthi Peramuna
(2) United National Party
(3) Ceylon Workers' Congress
(4) Democratic People's Front
66. Who among the following is known as the 'Father of the Nation' of Bangladesh?
- (1) Sheikh Mujibur Rahman
(2) Mohammed Shahabuddin
(3) Muhammad Yunus
(4) Hussain Muhammad Ershad
67. Which of the following Statement/Statements with regard to Dadasaheb Phalke award is/are incorrect?
- a) This award was first introduced by Government of India in 1950.
b) The first recipient of Dadasaheb Phalke award is Prithviraj Kapoor.
c) Mithun Chakraborty was honoured with this award during 69th National Film Awards Ceremony.
d) Dr. Rajkumar received this award during 43rd National Film Awards Ceremony.
- (1) c and d are incorrect
(2) Only d is incorrect
(3) a, b and c are incorrect
(4) Only c is incorrect
68. Expand HSRP.
- (1) High Speed Registration Place
(2) High Security Registration Plate
(3) Heavy Security Registration Place
(4) High Space Registration Plate
69. Who was the Chairman of the High Level Committee constituted by Government of India on 'One-Nation One-Election'?
- (1) Amit Shah
(2) Pralhad Joshi
(3) Harish Salve
(4) Ram Nath Kovind
- K.V

70. ಹೊಂದಿಸಿ ಬರೆಯಿರಿ.

- | | |
|-----------------|---------------------------|
| a) ಕದಂಬರು | i. ಗರುಡ |
| b) ಗಂಗರು | ii. ವರಾಹ |
| c) ಚಾಲುಕ್ಯರು | iii. ಸಿಂಹ ಮತ್ತು ವಾನರ ಧ್ವಜ |
| d) ರಾಷ್ಟ್ರಕೂಟರು | iv. ನಂದಿ |

(1) a - i, b - ii, c - iii, d - iv

(3) a - iii, b - iv, c - ii, d - i

(2) a - iv, b - iii, c - ii, d - i

(4) a - iii, b - i, c - ii, d - iv

71. ಕೆಳಗಿನ ಜೋಡಿಗಳಲ್ಲಿ ತಪ್ಪಾಗಿರುವುದನ್ನು ಗುರುತಿಸಿ :

(1) ಗಾಂಧಿ-ಇರ್ವಿನ್ ಒಪ್ಪಂದ - 1931

(3) ಆಗಸ್ಟ್ ಕೊಡುಗೆ - 1939

(2) ನೆಹರು ವರದಿ - 1928

(4) ವೇವೆಲ್ ಯೋಜನೆ - 1945

72. DIPAM ಇದರ ಪೂರ್ಣ ರೂಪ -----.

- (1) ಡಿಪಾರ್ಟ್‌ಮೆಂಟ್ ಆಫ್ ಇನ್‌ಸ್ಟಿಟ್ಯೂಷನ್ಸ್ ಆಂಡ್ ಪಬ್ಲಿಕ್ ಅಸೆಟ್ಸ್ ಮ್ಯಾನೇಜ್‌ಮೆಂಟ್
- (2) ಡಿಪಾರ್ಟ್‌ಮೆಂಟ್ ಆಫ್ ಇನ್‌ಸ್ಟಿಟ್ಯೂಷನ್ಸ್ ಆಂಡ್ ಪಬ್ಲಿಕ್ ಆಕ್ಸೆಸ್ ಮ್ಯಾನೇಜ್‌ಮೆಂಟ್
- (3) ಡಿಪಾರ್ಟ್‌ಮೆಂಟ್ ಆಫ್ ಇನ್‌ಸ್ಟಿಟ್ಯೂಷನ್ಸ್ ಆಂಡ್ ಪಬ್ಲಿಕ್ ಏರಿಯಾ ಮ್ಯಾನೇಜ್‌ಮೆಂಟ್
- (4) ಡಿಪಾರ್ಟ್‌ಮೆಂಟ್ ಆಫ್ ಇನ್‌ಸ್ಟಿಟ್ಯೂಷನ್ಸ್ ಆಂಡ್ ಪಾಲಿಸಿ ಆಕ್ಸೆಸ್ ಮ್ಯಾನೇಜ್‌ಮೆಂಟ್

73. KHIR ಸಿಟಿ (ಜ್ಞಾನ ಆರೋಗ್ಯ ಆವಿಷ್ಕಾರಗಳು ಮತ್ತು ಸಂಶೋಧನೆ) ಯನ್ನು ಎಲ್ಲಿ ಸ್ಥಾಪಿಸಲು ಉದ್ದೇಶಿಸಲಾಗಿದೆ?

(1) ಮೈಸೂರು

(3) ಉಡುಪಿ

(2) ಧಾರವಾಡ

(4) ಬೆಂಗಳೂರು

74. ಈ ಕೆಳಕಂಡ ಶೈಕ್ಷಣಿಕ ಯೋಜನೆಗಳು ಮತ್ತು ಅವುಗಳ ಉದ್ದೇಶಗಳನ್ನು ಹೊಂದಿಸಿ ಬರೆಯಿರಿ :

a) ನ್ಯಾಷನಲ್ ಮೀನ್ಸ್ ಕಮ್ ಮೆರಿಟ್ ಸ್ಕಾಲರ್‌ಶಿಪ್ ಯೋಜನೆ

b) ವಿದ್ಯಾಂಜಲಿ

c) ಉನ್ನತ ಭಾರತ್ ಅಭಿಯಾನ

d) ಪ್ರಗತಿ

i. ಬಾಲಕಿಯರಿಗೆ ತಾಂತ್ರಿಕ ಶಿಕ್ಷಣಕ್ಕಾಗಿ ಸ್ಕಾಲರ್‌ಶಿಪ್

ii. ಉನ್ನತ ಶಿಕ್ಷಣ ಸಂಸ್ಥೆಗಳನ್ನು ಹಳ್ಳಿಗಳು ಮತ್ತು ಸಮಾಜದೊಂದಿಗೆ ಸಂಪರ್ಕಿಸುವುದು

iii. ಆರ್ಥಿಕವಾಗಿ ಹಿಂದುಳಿದ ವರ್ಗಗಳ ಪ್ರತಿಭಾವಂತ ವಿದ್ಯಾರ್ಥಿಗಳಿಗೆ ಸ್ಕಾಲರ್‌ಶಿಪ್ ನೀಡುವುದು

iv. ವಿದ್ಯಾರ್ಥಿಗಳಿಗೆ ಸ್ವಯಂಸೇವೆಯಿಂದ ಪರಿಹಾರ ಬೋಧನಾ ತರಗತಿಗಳು ಹಾಗೂ ತರಬೇತಿ ಕಾರ್ಯಕ್ರಮ

(1) a - iii, b - iv, c - ii, d - i

(3) a - ii, b - iii, c - i, d - iv

(2) a - i, b - ii, c - iv, d - iii

(4) a - iii, b - i, c - iv, d - ii

SPACE FOR ROUGH WORK

70. Match the following:

- | | |
|-----------------|---------------------------|
| a) Kadambas | i. Garuda |
| b) Gangas | ii. Varaha |
| c) Chalukyas | iii. Lion and Monkey flag |
| d) Rashtrakutas | iv. Bull |

(1) a – i, b – ii, c – iii, d – iv

(2) a – iv, b – iii, c – ii, d – i

(3) a – iii, b – iv, c – ii, d – i

(4) a – iii, b – i, c – ii, d – iv

71. Identify the incorrect pair from the following:

(1) Gandhi-Irwin Pact – 1931

(2) Nehru Report – 1928

(3) August Offer – 1939

(4) Wavell Plan – 1945

72. Fullform of DIPAM is _____

(1) Department of Investment and Public Asset Management

(2) Department of Innovation and Public Access Management

(3) Department of Investment and Public Area Management

(4) Department of Innovation and Policy Access Management

73. KHIR City (Knowledge Healthcare Innovation and Research) is planned to be established at _____

(1) Mysore

(2) Dharwad

(3) Udupi

(4) Bengaluru

74. Match the following educational schemes with their objectives:

- | | |
|--|--|
| a) National Means-cum-Merit Scholarship scheme | i. Scholarship for girls in technical education |
| b) Vidyanjali | ii. Connecting higher education institutions with society & villages |
| c) Unnat Bharat Abhiyan | iii. Award scholarship to meritorious students of economically weaker sections |
| d) Pragati | iv. Remedial classes & training programmes for students through voluntarism. |

(1) a – iii, b – iv, c – ii, d – i

(2) a – i, b – ii, c – iv, d – iii

(3) a – ii, b – iii, c – i, d – iv

(4) a – iii, b – i, c – iv, d – ii

SPACE FOR ROUGH WORK

75. ಕೇಂದ್ರ ಜಲ ಆಯೋಗ (ಸಿಡಬ್ಲ್ಯೂಸಿ)ವು ಪ್ರಥಮ ಪ್ರವಾಹ ಮುನ್ನೂಚನಾ ಕೇಂದ್ರವನ್ನು ಸ್ಥಾಪಿಸಿದ ಸ್ಥಳ _____
- (1) ಕರ್ನಾಲ್ ಸೇತುವೆ, ಕರ್ನಾಲ್ (2) ತಾಜಿವಾಲಾ ಅಣೆಕಟ್ಟು (Weir), ಯಮುನಾ ನಗರ
(3) ಹಳೆ ರೈಲ್ವೆ ಸೇತುವೆ, ದೆಹಲಿ (4) ಹೌರಾ ಸೇತುವೆ, ಕೊಲ್ಕತ್ತಾ

76. ಭಾರತದಲ್ಲಿ ಆರಂಭಿಕ ಉಕ್ಕು ಮತ್ತು ಕಬ್ಬಿಣ ಕೈಗಾರಿಕೆಗಳು ಕಲ್ಪಿದ್ದಲು ಆಧಾರಿತವಾಗಿದ್ದವು. ಇದರಲ್ಲಿ ಒಂದೇ ಅಪವಾದವೆಂದರೆ _____
- (1) ಕುಲ್ದಿ (2) ಜೆಮ್‌ಷೆಡ್‌ಪುರ
(3) ಭದ್ರಾವತಿ (4) ಬರ್ನಾಪುರ

77. ಈ ಕೆಳಕಂಡ ಪ್ರದೇಶಗಳ ವೈಕಿ ತೋಡಾ ಬುಡಕಟ್ಟಿನ ಮೂಲ ವಾಸಸ್ಥಾನ ಯಾವುದು?
- (1) ಕುಮಾವು ಬೆಟ್ಟಗಳು (2) ನೀಲಗಿರಿ ಬೆಟ್ಟಗಳು
(3) ಖಾಸಿ ಬೆಟ್ಟಗಳು (4) ಘರ್ವಾಲ್ ಬೆಟ್ಟಗಳು

- (78) ಪಟ್ಟಿ I ರಲ್ಲಿರುವ ದೇಶ ಹಾಗೂ ಪಟ್ಟಿ II ರಲ್ಲಿರುವ ಬಂದರು ನಗರಗಳನ್ನು ಹೊಂದಿಸಿರಿ :

ಪಟ್ಟಿ I (ದೇಶ)

ಪಟ್ಟಿ II (ಬಂದರು ನಗರ)

- a) ಚೀನಾ
b) ಈಜಿಪ್ಟ್
c) ನೆದರ್ಲ್ಯಾಂಡ್ಸ್
d) ಯುನೈಟೆಡ್ ಕಿಂಗ್‌ಡಂ

- i. ರೊಟರ್‌ಡ್ಯಾಮ್
ii. ಶಾಂಘೈ
iii. ಅಲೆಕ್ಸಾಂಡ್ರಿಯಾ
iv. ಲಂಡನ್

(1) a - ii, b - i, c - iii, d - iv

(2) a - ii, b - iii, c - i, d - iv

(3) a - ii, b - iii, c - iv, d - i

(4) a - iii, b - ii, c - i, d - iv

79. ಹೊಂದಿಸಿ ಬರೆಯಿರಿ :

- a) ಪಡುಬಿದ್ದಿ ಬೀಚ್ i. ಗೋಕರ್ಣ
b) ಹಾಫ್‌ಮೂನ್ ಬೀಚ್ ii. ಉಡುಪಿ
c) ದೇವಭಾಗ್ ಬೀಚ್ iii. ಮಂಗಳೂರು
d) ತಣ್ಣೇರು ಬಾವಿ iv. ಕಾರವಾರ

(1) a - i, b - ii, c - iii, d - iv

(2) a - i, b - ii, c - iv, d - iii

(3) a - ii, b - i, c - iv, d - iii

(4) a - ii, b - iv, c - iii, d - i

K.V

75. The first flood forecasting station was established by the Central Water Commission (CWC) in _____

(1) Karnal Bridge, Karnal

(2) Tajewala Weir, Yamuna Nagar

(3) Old Railway Bridge, Delhi

(4) Howrah Bridge, Kolkata

76. In the beginning, iron & steel industries were coal-based in India, the only exception was

(1) Kulti

(2) Jamshedpur

(3) Bhadravathi

(4) Burnpur

77. Which of the following regions is the original habitat of the 'Toda Tribe'?

(1) Kumaon Hills

(2) Nilgiri Hills

(3) Khasi Hills

(4) Garhwal Hills

78. Match the countries in List I with List II of port cities:

List I (Countries)

List II (Port Cities)

a) China

i. Rotterdam

b) Egypt

ii. Shanghai

c) Netherlands

iii. Alexandria

d) United Kingdom

iv. London

(1) a – ii, b – i, c – iii, d – iv

(2) a – ii, b – iii, c – i, d – iv

(3) a – ii, b – iii, c – iv, d – i

(4) a – iii, b – ii, c – i, d – iv

79. Match the following:

a) Padubidri Beach

i. Gokarna

b) Half moon Beach

ii. Udupi

c) Devbagh Beach

iii. Mangaluru

d) Tannirbhavi Beach

iv. Karwar

(1) a – i, b – ii, c – iii, d – iv

(2) a – i, b – ii, c – iv, d – iii

(3) a – ii, b – i, c – iv, d – iii

(4) a – ii, b – iv, c – iii, d – i

SPACE FOR ROUGH WORK

(80)

ಪ್ರತಿಪಾದನೆ (A) : ರಾಯಚೂರು, ಬಳ್ಳಾರಿ ಮತ್ತು ವಿಜಯನಗರ ಪ್ರದೇಶಗಳು ಹತ್ತಿ ಬೆಳೆಗೆ ಪ್ರಸಿದ್ಧವಾಗಿವೆ.
ಕಾರಣ (R) : ಈ ಪ್ರದೇಶವು ತುಂಗಭದ್ರಾ ಯೋಜನೆಯ ಕಾಲುವೆ ನೀರಾವರಿಯಿಂದ ಸಮೃದ್ಧವಾಗಿದೆ.

ಕೆಳಗಿನ ಆಯ್ಕೆಗಳಿಂದ ಸರಿಯಾದ ಉತ್ತರವನ್ನು ಆರಿಸಿರಿ :

- (1) ಪ್ರತಿಪಾದನೆ ಮತ್ತು ಕಾರಣ ಎರಡು ಸರಿಯಾಗಿವೆ ಹಾಗೂ ಕಾರಣವು ಪ್ರತಿಪಾದನೆಗೆ ಸರಿಯಾದ ವಿವರಣೆಯಾಗಿದೆ.
(2) ಪ್ರತಿಪಾದನೆ ಮತ್ತು ಕಾರಣ ಎರಡು ಸರಿಯಾಗಿವೆ. ಆದರೆ ಕಾರಣವು ಪ್ರತಿಪಾದನೆಗೆ ಸರಿಯಾದ ವಿವರಣೆಯಲ್ಲ.
(3) ಕಾರಣ ಸರಿಯಾಗಿದೆ. ಆದರೆ ಪ್ರತಿಪಾದನೆ ಸರಿಯಿಲ್ಲ.
(4) ಪ್ರತಿಪಾದನೆ ಮತ್ತು ಕಾರಣ ಎರಡೂ ಸರಿಯಿಲ್ಲ.

81. ಒಬ್ಬ ವ್ಯಕ್ತಿಯು ತನ್ನ ಸಂಬಳದ $\frac{1}{7}$ ಭಾಗವನ್ನು ಆಹಾರಕ್ಕೆ ಖರ್ಚು ಮಾಡುತ್ತಾನೆ, ಉಳಿದ ಸಂಬಳದ $\frac{1}{2}$ ಭಾಗವನ್ನು ಬಟ್ಟೆ ಖರೀದಿಗೆ ಬಳಸುತ್ತಾನೆ ಮತ್ತು ಉಳಿದ ಸಂಬಳದ $\frac{1}{3}$ ಭಾಗವನ್ನು ಮನರಂಜನೆಗೆ ಬಳಸುತ್ತಾನೆ. ಆದರೂ ಕೂಡ ಅವನಲ್ಲಿ ರೂ. 600 ಗಳು ಉಳಿಯುತ್ತದೆ. ಹಾಗಾದರೆ ಮನರಂಜನೆಗೆ ಅವನು ಎಷ್ಟು ಖರ್ಚು ಮಾಡುತ್ತಾನೆ?

- (1) ರೂ. 300 (2) ರೂ. 450
(3) ರೂ. 600 (4) ರೂ. 700

(82)

ರವಿಯು ಶ್ಯಾಮನಿಗಿಂತ ಉದ್ದ ಆದರೆ ಮೋಹನನಿಗಿಂತ ಗಿಡ್ಡವಾಗಿದ್ದಾನೆ. ಶ್ಯಾಮನು ಶಿಲ್ಪಾಳಿಗಿಂತ ಗಿಡ್ಡ ಆದರೆ ಸವಿತಾಳಿಗಿಂತ ಉದ್ದವಾಗಿದ್ದಾನೆ. ರವಿಯು ಸವಿತಾಳಿಗಿಂತ ಉದ್ದವಾಗಿದ್ದಾನೆ. ಹಾಗಾದರೆ ಉದ್ದವಾಗಿರುವ ವ್ಯಕ್ತಿಗಳಲ್ಲಿ 2 ಮತ್ತು 3ನೇ ಸ್ಥಾನದಲ್ಲಿರುವವರು ಯಾರು?

- (1) ರವಿ - ಶಿಲ್ಪಾ (2) ಶಿಲ್ಪಾ - ಶ್ಯಾಮ್
(3) ರವಿ - ಶ್ಯಾಮ್ (4) ರವಿ - ಸವಿತಾ

83.

ಒಂದು ಟ್ಯಾಂಕ್‌ಗೆ A, B ಮತ್ತು C ಎಂಬ ಮೂರು ಕೊಳವೆಗಳನ್ನು ಅಳವಡಿಸಲಾಗಿದೆ. A ಮತ್ತು B ಕೊಳವೆಗಳು ಒಟ್ಟಾಗಿ 6 ಗಂಟೆಯಲ್ಲಿ B ಮತ್ತು C ಕೊಳವೆಗಳು 10 ಗಂಟೆಯಲ್ಲಿ, C ಮತ್ತು A ಕೊಳವೆಗಳು 7.5 ಗಂಟೆಯಲ್ಲಿ ಟ್ಯಾಂಕ್‌ನ್ನು ತುಂಬಿಸುತ್ತವೆ. A ಕೊಳವೆಯಿಂದ ಮಾತ್ರ ಟ್ಯಾಂಕ್‌ನ್ನು ತುಂಬಿಸಲು ಬೇಕಾಗುವ ಸಮಯ _____

- (1) 8 ಗಂಟೆಗಳು (2) 10 ಗಂಟೆಗಳು
(3) 12 ಗಂಟೆಗಳು (4) 9 ಗಂಟೆಗಳು

(84)

ಈ ಕೆಳಕಂಡ ಸರಣಿಯಲ್ಲಿ ಪ್ರಶ್ನಾರ್ಥಕ ಚಿಹ್ನೆ ಇರುವ ಸ್ಥಳದಲ್ಲಿ ಯಾವ ಇಂಗ್ಲಿಷ್ ವರ್ಣಮಾಲೆಯ ಅಕ್ಷರ ಬರುತ್ತದೆ?
A, E, C, G, E, I, ?

- (1) H (2) E
(3) G (4) J

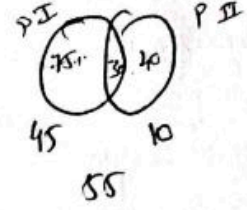
SPACE FOR ROUGH WORK

L X 100

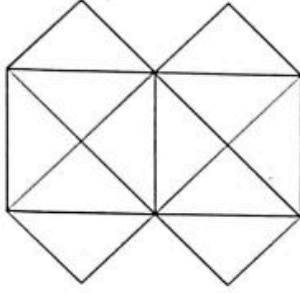
80. Assertion (A): Raichur, Ballari and Vijayanagara regions are known for cotton cultivation.
Reason (R): Canal irrigation from Tungabhadra project is dominant in this region.
Consider the above statements and choose the correct answer from the options given below:
(1) Both assertion and reason are correct and reason is the correct explanation for the assertion.
(2) Both assertion and reason are correct but reason is not the correct explanation for the assertion.
(3) Reason is correct but assertion is not correct
(4) Both assertion and reason are not correct
81. A man spends $\frac{1}{7}$ of his salary on food, $\frac{1}{2}$ of the remaining on clothings and $\frac{1}{3}$ of the remaining on entertainment. He is still left with ₹600. How much does he spend on entertainment?
(1) ₹300 (2) ₹450
(3) ₹600 (4) ₹700
82. Ravi is taller than Shyam but shorter than Mohan. Shyam is shorter than Shilpa but taller than Savitha. Ravi is taller than Savitha. Then who are the tallest persons in 2nd and 3rd positions?
(1) Ravi – Shilpa (2) Shilpa – Shyam
(3) Ravi – Shyam (4) Ravi – Savitha
83. A, B and C are three pipes connected to a tank. A and B together fill the tank in 6 hours, B and C in 10 hours and C and A in 7.5 hours. Then, only A can fill the tank in _____
(1) 8 hours (2) 10 hours
(3) 12 hours (4) 9 hours
84. What comes in the place of question mark (?) in the following series?
A, E, C, G, E, I, ?
(1) H (2) E
(3) G (4) J

85. ಎರಡು ಪತ್ರಿಕೆಗಳನ್ನು ಹೊಂದಿರುವ ಒಂದು ಸ್ಪರ್ಧಾತ್ಮಕ ಪರೀಕ್ಷೆಯಲ್ಲಿ 75% ವಿದ್ಯಾರ್ಥಿಗಳು ಪತ್ರಿಕೆ I ರಲ್ಲಿ ಮತ್ತು 40% ವಿದ್ಯಾರ್ಥಿಗಳು ಪತ್ರಿಕೆ II ರಲ್ಲಿ ಉತ್ತರಿಸಿದ್ದಾರೆ. 30% ವಿದ್ಯಾರ್ಥಿಗಳು ಎರಡೂ ಪತ್ರಿಕೆಗಳಲ್ಲಿ ಅನುತ್ತರಿಸಿದ್ದಾರೆ. ಹಾಗಾದರೆ, ಪರೀಕ್ಷೆ ತೆಗೆದುಕೊಂಡ ಒಟ್ಟು ವಿದ್ಯಾರ್ಥಿಗಳ ಸಂಖ್ಯೆ ಎಷ್ಟು?

- (1) 1000 (2) 900
(3) 1100 (4) 800



86. ಚಿತ್ರದಲ್ಲಿನ ತ್ರಿಕೋನಗಳ ಸಂಖ್ಯೆಯನ್ನು ಎಣಿಸಿ ಸರಿಯಾದ ಉತ್ತರವನ್ನು ಗುರುತಿಸಿರಿ.



- (1) 12 (2) 20
(3) 22 (4) 24

87. $2\sqrt{2}$ ಸಂ.ಮೀ. ಉದ್ದದ ಬಾಹುವುಳ್ಳ ಎರಡು ಸಮಬಾಹು ತ್ರಿಭುಜಗಳು ಸೇರಿ ಒಂದು ಚತುರ್ಭುಜವಾಗುತ್ತದೆ. ಆಗ ಉಂಟಾಗುವ ಚತುರ್ಭುಜದ ವಿಸ್ತೀರ್ಣವು

- (1) $2\sqrt{3}$ ಚ.ಸಂ. ಮೀ (2) $3\sqrt{3}$ ಚ.ಸಂ. ಮೀ
(3) $4\sqrt{3}$ ಚ.ಸಂ. ಮೀ (4) 8 ಚ.ಸಂ. ಮೀ

88. \times ಅಂದರೆ \div ಎಂದಾಗಿ, $-$ ಅಂದರೆ \times ಎಂದಾಗಿ, \div ಅಂದರೆ $+$ ಎಂದಾಗಿ ಮತ್ತು $+$ ಅಂದರೆ $-$ ಆಗಿದ್ದರೆ, ಆಗ

$$\frac{(3 \times 15 + 19) \div 8 + 6}{27 \div 3 \times 2 + 16} =$$

- (1) 2 (2) 3
(3) 1 (4) 4

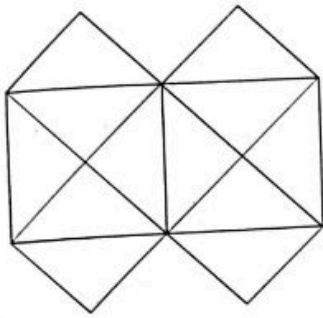
89. ಒಬ್ಬ ತಂದೆಯು ತನ್ನ ಮಗನಿಗಿಂತ ಮೂರು ಪಟ್ಟು ಹೆಚ್ಚು ವಯಸ್ಸಿನವರು. ಐದು ವರ್ಷಗಳ ಹಿಂದೆ ಅವರು ತಮ್ಮ ಮಗನಿಗಿಂತ ನಾಲ್ಕು ಪಟ್ಟು ಹೆಚ್ಚು ವಯಸ್ಸಿನವರಾಗಿದ್ದರು. ಮಗನ ಈಗಿನ ವಯಸ್ಸು ಎಷ್ಟು?

- (1) 17 ವರ್ಷಗಳು (2) 15 ವರ್ಷಗಳು
(3) 12 ವರ್ಷಗಳು (4) 19 ವರ್ಷಗಳು

K.V

85. In a competitive examination which has two papers, 75% of the students passed in Paper-I and 40% of the students passed in Paper-II. 30% of the students failed in both the Papers. What is the total number of students who took the examination?
- (1) 1000 (2) 900
(3) 1100 (4) 800

86. Count the number of triangles in the figure and choose the correct answer.



- (1) 12 (2) 20
(3) 22 (4) 24
87. Two equilateral triangles of side $2\sqrt{2}$ cm joined to form a quadrilateral. The area of the quadrilateral thus formed is equal to
- (1) $2\sqrt{3}$ sq.cm (2) $3\sqrt{3}$ sq.cm
(3) $4\sqrt{3}$ sq.cm (4) 8 sq.cm
88. If \times means \div , $-$ means \times , \div means $+$ and $+$ means $-$, then

$$\frac{(3-15\div 19)\times 8+6}{27\times 3-2+16} =$$

- (1) 2 (2) 3
(3) 1 (4) 4
89. A father is three times as old as his son. Five years ago, he was four times as old as his son, the present age of the son is
- (1) 17 years (2) 15 years
(3) 12 years (4) 19 years

SPACE FOR ROUGH WORK

K.V

90. 45 ವಿದ್ಯಾರ್ಥಿಗಳಿರುವ ತರಗತಿಯಲ್ಲಿ ಒಬ್ಬ ಹುಡುಗನು 20 ನೇ ರ್ಯಾಂಕ್ ಪಡೆದಿದ್ದಾನೆ. 3 ಹುಡುಗರು ಆ ತರಗತಿಗೆ ಹೊಸದಾಗಿ ಸೇರಿದರೆ ಆ ಹುಡುಗನ ರ್ಯಾಂಕ್ 3 ಸ್ಥಾನ ಕೆಳಗೆ ಇಳಿಯುತ್ತದೆ. ಕೆಳಗಿನಿಂದ ಅವನ ಹೊಸ ರ್ಯಾಂಕ್ ಎಷ್ಟಾಗಿರುತ್ತದೆ?
- (1) 25 ನೇ (2) 26 ನೇ
(3) 24 ನೇ (4) 27 ನೇ
91. ಒಂದು ನಿರ್ದಿಷ್ಟ ಸರಳಬದ್ಧಿ ದರದಲ್ಲಿ ಒಂದು ಮೊತ್ತವು 8 ವರ್ಷಗಳಲ್ಲಿ ದ್ವಿಗುಣಗೊಂಡರೆ, ಎಷ್ಟು ವರ್ಷಗಳಲ್ಲಿ ಆ ಮೊತ್ತವು ನಾಲ್ಕು ಪಟ್ಟು ಆಗುತ್ತದೆ?
- (1) 20 ವರ್ಷಗಳು (2) 22 ವರ್ಷಗಳು
(3) 24 ವರ್ಷಗಳು (4) 26 ವರ್ಷಗಳು
92. ಎತ್ತಿನಹೊಳೆ ಸಮಗ್ರ ಕುಡಿಯುವ ನೀರಿನ ಯೋಜನೆಯು _____ ದ ಪ್ರಮುಖ ಯೋಜನೆಯಾಗಿದೆ.
- (1) ಕಾವೇರಿ ನೀರಾವರಿ ನಿಗಮ ನಿಯಮಿತ (2) ಕರ್ನಾಟಕ ನೀರಾವರಿ ನಿಗಮ ನಿಯಮಿತ
(3) ಕೃಷ್ಣಾ ಭಾಗ್ಯ ಜಲ ನಿಗಮ ನಿಯಮಿತ (4) ವಿಶ್ವೇಶ್ವರಯ್ಯ ಜಲ ನಿಗಮ ನಿಯಮಿತ
93. ದಿ ಸೆಂಟ್ರಲ್ ಸಾಯಿಲ್ ಆಂಡ್ ವಾಟರ್ ಕನ್ಸರ್ವೇಶನ್ ರಿಸರ್ಚ್ ಆಂಡ್ ಟ್ರೈನಿಂಗ್ ಇನ್ಸ್ಟಿಟ್ಯೂಟ್ ಅನ್ನು 1954 ರಲ್ಲಿ ಎಲ್ಲಿ ಸ್ಥಾಪಿಸಲಾಗಿದೆ?
- (1) ಬಳ್ಳಾರಿ (2) ಚಾಮರಾಜನಗರ
(3) ಉಡುಪಿ (4) ಮಂಡ್ಯ
94. ಕರ್ನಾಟಕದ ಈ ಕೆಳಕಂಡ ಜಿಲ್ಲೆಗಳನ್ನು ಭೌಗೋಳಿಕ ವಿಸ್ತೀರ್ಣಕ್ಕೆ ಸಂಬಂಧಿಸಿದಂತೆ 2021 ರಲ್ಲಿ ಇದ್ದಂತೆ, ಅತಿ ಚಿಕ್ಕ ಜಿಲ್ಲೆಯಿಂದ ದೊಡ್ಡ ಜಿಲ್ಲೆ ಇರುವಂತೆ ಶ್ರೇಣಿಯಲ್ಲಿ ವ್ಯವಸ್ಥೆ ಮಾಡಿ :
- (1) ರಾಮನಗರ, ಕೊಡಗು, ಬೆಂಗಳೂರು ಗ್ರಾಮಾಂತರ, ಬೆಳಗಾವಿ, ತುಮಕೂರು
(2) ಕೊಡಗು, ಬೆಂಗಳೂರು ಗ್ರಾಮಾಂತರ, ರಾಮನಗರ, ತುಮಕೂರು, ಬೆಳಗಾವಿ
(3) ರಾಮನಗರ, ಬೆಂಗಳೂರು ಗ್ರಾಮಾಂತರ, ಕೊಡಗು, ತುಮಕೂರು, ಬೆಳಗಾವಿ
(4) ಬೆಂಗಳೂರು ಗ್ರಾಮಾಂತರ, ರಾಮನಗರ, ಕೊಡಗು, ತುಮಕೂರು, ಬೆಳಗಾವಿ
95. ಕರ್ನಾಟಕದ ಬೆಳಗಾವಿ ಕಂದಾಯ ವಿಭಾಗಕ್ಕೆ ಸಂಬಂಧಿಸಿದಂತೆ ಈ ಕೆಳಕಂಡ ಯಾವ ಹೇಳಿಕೆ/ಹೇಳಿಕೆಗಳು ಸರಿಯಿಲ್ಲ?
- i ಇದು ಏಳು ಜಿಲ್ಲೆಗಳನ್ನು ಒಳಗೊಂಡಿದೆ.
ii ಇದನ್ನು ಕಿತ್ತೂರು ಕರ್ನಾಟಕ ಎಂದು ಕೂಡಾ ಕರೆಯುತ್ತಾರೆ.
iii ಭೌಗೋಳಿಕ ವಿಸ್ತೀರ್ಣಕ್ಕೆ (ಚದರ ಕಿ.ಮೀ. ಗಳಲ್ಲಿ) ಸಂಬಂಧಿಸಿದಂತೆ ರಾಜ್ಯದಲ್ಲೇ ಅತ್ಯಂತ ಸಣ್ಣ ಜಿಲ್ಲೆಯನ್ನು ಇದು ಒಳಗೊಂಡಿದೆ.
- ಕೆಳಗೆ ನೀಡಿರುವ ಆಯ್ಕೆಗಳಲ್ಲಿ ಸರಿಯಾದ ಉತ್ತರವನ್ನು ಆಯ್ಕೆ ಮಾಡಿ :
- (1) i ಮತ್ತು ii ನೇ ಹೇಳಿಕೆಗಳು ಸರಿಯಿಲ್ಲ. (2) ಕೇವಲ ii ನೇ ಹೇಳಿಕೆ ಸರಿಯಿಲ್ಲ.
(3) ಕೇವಲ iii ನೇ ಹೇಳಿಕೆ ಸರಿಯಿಲ್ಲ. (4) ii ಮತ್ತು iii ನೇ ಹೇಳಿಕೆಗಳು ಸರಿಯಿಲ್ಲ.

90. In a class of 45 students, a boy is ranked as 20th. When 3 boys joined, his rank was dropped by three. What is his new rank from the lower end?
(1) 25th (2) 26th
(3) 24th (4) 27th
91. If a certain sum of money is doubled in 8 years at a given simple interest, then in how many years will it be four times?
(1) 20 years (2) 22 years
(3) 24 years (4) 26 years
92. Yettinahole Integrated Drinking Water Supply Project is a flagship project of _____
(1) Cauvery Neeravari Nigama Ltd. (2) Karnataka Neeravari Nigam Ltd.
(3) Krishna Bhagya Jala Nigam Ltd. (4) Visvesvaraya Jala Nigam Ltd.
93. The Central Soil and Water Conservation Research and Training Institute was established in 1954 at
(1) Bellary (2) Chamarajanagar
(3) Udupi (4) Mandya
94. Arrange the following districts of Karnataka from smallest to largest in terms of geographical area in 2021.
(1) Ramanagara, Kodagu, Bengaluru Rural, Belagavi, Tumakuru
(2) Kodagu, Bengaluru Rural, Ramanagara, Tumakuru, Belagavi
(3) Ramanagara, Bengaluru Rural, Kodagu, Tumakuru, Belagavi
(4) Bengaluru Rural, Ramanagara, Kodagu, Tumakuru, Belagavi
95. Which of the following Statements is/are not correct related to Belagavi revenue division of Karnataka?
i. It consists of 7 districts
ii. It is also known as Kittur, Karnataka
iii. It has the smallest district of Karnataka in terms of geographical area (in sq kms)
Choose the correct answer from the options given below:
(1) Statements i and ii are not correct (2) Only Statement ii is not correct
(3) Only Statement iii is not correct (4) Statements ii and iii are not correct

96. 2024 ರ ಜೂನ್‌ನಲ್ಲಿ ಯಾರನ್ನು ಜಿ.ಎಸ್.ಟಿ. ದರ ತರ್ಕಬದ್ಧಗೊಳಿಸುವಿಕೆ ಸಮಿತಿಯ ಸಂಚಾಲಕರನ್ನಾಗಿ ನೇಮಿಸಲಾಯಿತು?
- (1) ಸಾಮ್ರಾಟ್ ಚೌಧರಿ, ಬಿಹಾರದ ಉಪಮುಖ್ಯಮಂತ್ರಿಗಳು
(2) ಕೃಷ್ಣ ಬೈರೇಗೌಡ, ಕರ್ನಾಟಕದ ಕಂದಾಯ ಸಚಿವರು
(3) ಕೆ.ಎನ್. ಬಾಲಗೋಪಾಲ್, ಕೇರಳದ ಹಣಕಾಸು ಸಚಿವರು
(4) ಚಂದ್ರಿಮಾ ಭಟ್ಟಾಚಾರ್ಯ, ಪಶ್ಚಿಮ ಬಂಗಾಳದ ಹಣಕಾಸು ಸಚಿವರು
97. ಸ್ವತಂತ್ರ ಭಾರತದಲ್ಲಿ ಏಕರೂಪ ನಾಗರಿಕ ಸಂಹಿತೆಯನ್ನು ಅನುಷ್ಠಾನಗೊಳಿಸಿದ ಭಾರತದ ಪ್ರಥಮ ರಾಜ್ಯ ಯಾವುದು?
- (1) ರಾಜಸ್ಥಾನ (2) ಉತ್ತರಾಖಂಡ
(3) ಗುಜರಾತ್ (4) ಕರ್ನಾಟಕ
98. ಈ ಕೆಳಗಿನ ಹೇಳಿಕೆಗಳಲ್ಲಿ ಯಾವುದು ತಪ್ಪಾಗಿದೆ?
- (1) ಲೋಕಸಭೆಯ ಸದಸ್ಯರು ತಮ್ಮ ಸಭಾಪತಿಯನ್ನು ಚುನಾಯಿಸುತ್ತಾರೆ
(2) ರಾಜ್ಯಸಭೆಯ ಸದಸ್ಯರು ತಮ್ಮ ಸಭಾಧ್ಯಕ್ಷರನ್ನು ಚುನಾಯಿಸುತ್ತಾರೆ
(3) ವಿಧಾನಸಭೆಯ ಸದಸ್ಯರು ತಮ್ಮ ಸಭಾಪತಿಯನ್ನು ಚುನಾಯಿಸುತ್ತಾರೆ
(4) ವಿಧಾನಪರಿಷತ್ತಿನ ಸದಸ್ಯರು ತಮ್ಮ ಸಭಾಧ್ಯಕ್ಷರನ್ನು ಚುನಾಯಿಸುತ್ತಾರೆ
99. ಕರ್ನಾಟಕ ರಾಜ್ಯ ಗ್ರಾಮೀಣಾಭಿವೃದ್ಧಿ ಮತ್ತು ಪಂಚಾಯತ್ ರಾಜ್ ವಿಶ್ವವಿದ್ಯಾಲಯ, ಗದಗದ ಧ್ಯೇಯ ವಾಕ್ಯ ಯಾವುದು?
- (1) ಕೃಷಿ ಮೂಲಂ ಜಗತ್ ಸರ್ವಂ (2) ನ ಸಮೃದ್ಧಿಃ ಕೃಷಿ ವಿನಾ
(3) ಹೊನ್ನ ಬಿತ್ತೇವು ಹೊಲಕ್ಕೆಲ್ಲ (4) ಗ್ರಾಮೀಣ ಬೇರು ಜಾಗತಿಕ ಮೇರು
100. ಕೆಳಗಿನ ಸಮಿತಿಗಳಲ್ಲಿ ಯಾವುದರ ಶಿಫಾರಸ್ಸಿನ ಮೇರೆಗೆ ಕೇಂದ್ರ ಜಾಗೃತ ಆಯೋಗವನ್ನು ಸ್ಥಾಪಿಸಲಾಯಿತು?
- (1) ಸಂತಾನಮ್ ಸಮಿತಿ (2) ಕೃಷಲಾನಿ ಸಮಿತಿ
(3) ಗೊರವಾಲಾ ಸಮಿತಿ (4) ರಂಗರಾಜನ್ ಸಮಿತಿ

K.V

KEA - VAO EXAM - GK - 2024
27/10/2024

96. Who has been appointed as the convenor of the GST rate rationalisation panel in June 2024?
- (1) Samrat Choudhary, Deputy Chief Minister of Bihar
(2) Krishna Byre Gowda, Revenue Minister of Karnataka
(3) K.N. Balagopal, Finance Minister of Kerala
(4) Chandrima Bhattacharya, Finance Minister of West Bengal
97. Which of the following states has become the first state in Independent India to enforce uniform civil code?
- (1) Rajasthan (2) Uttarakhand
(3) Gujarat (4) Karnataka
98. Which of the following statements is not correct?
- (1) The members of Lok Sabha elect its Speaker
(2) The members of Rajya Sabha elect its Chairman
(3) The members of Legislative Assembly elect its Speaker
(4) The members of Legislative Council elect its Chairman
99. What is the motto of Karnataka State Rural Development and Panchayat Raj University, Gadag?
- (1) Krushi Mulam Jagat Sarvam (2) Na Samruddhi Krushi Vina
(3) Honna Bittevu Holakella (4) Rural Roots Global Heights
100. On the recommendations of which of the following committees, the Central Vigilance Commission was set up?
- (1) Santhanam Committee (2) Kripalani Committee
(3) Gorwala Committee (4) Rangarajan Committee
-